

ΑΠΟΛΥΤΗΡΙΕΣ ΕΞΕΤΑΣΕΙΣ Γ' ΤΑΞΗΣ ΕΝΙΑΙΟΥ
ΛΥΚΕΙΟΥ

ΤΡΙΤΗ 12 ΙΟΥΝΙΟΥ 2001

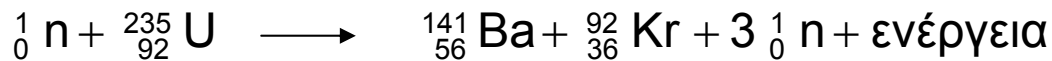
ΕΞΕΤΑΖΟΜΕΝΟ ΜΑΘΗΜΑ ΓΕΝΙΚΗΣ ΠΑΙΔΕΙΑΣ:
ΦΥΣΙΚΗ

ΣΥΝΟΛΟ ΣΕΛΙΔΩΝ: ΕΞΙ (6)

ΘΕΜΑ 1^ο

Στις ερωτήσεις 1-4 να γράψετε στο τετράδιό σας τον αριθμό της ερώτησης και δίπλα το γράμμα που αντιστοιχεί στη σωστή απάντηση.

1. Η πυρηνική αντίδραση



παριστάνει :

- α. διάσπαση β^-
- β. διάσπαση γ
- γ. σύντηξη
- δ. σχάση.

Μονάδες 5

2. Η υπεριώδης ακτινοβολία:

- α. είναι ορατή με γυμνό μάτι
- β. δεν προκαλεί αμαύρωση των φωτογραφικών πλακών
- γ. συμμετέχει στη μετατροπή του οξυγόνου της ατμόσφαιρας σε όζον
- δ. δεν προκαλεί το φθορισμό σε διάφορα σώματα.

Μονάδες 5

3. Όταν ακτίνα μονοχρωματικού φωτός περάσει από τον αέρα σε γυαλί, μεταβάλλεται:

- α. η συχνότητά της

- β. μόνον το μήκος κύματός της
- γ. το μήκος κύματος και η ταχύτητα διάδοσής της
- δ. η συχνότητα και η ταχύτητα διάδοσής της.

Μονάδες 5

4. Αδρόνια είναι:

- α. το πρωτόνιο και το ηλεκτρόνιο
- β. το πρωτόνιο και το νετρόνιο
- γ. το νετρόνιο και το μιονίο
- δ. το μιονίο και το ηλεκτρόνιο.

Μονάδες 5

5. Να χαρακτηρίσετε στο τετράδιό σας τις προτάσεις που ακολουθούν με το γράμμα Σ αν είναι σωστές και με το γράμμα Λ αν είναι λανθασμένες.

- α. Σύμφωνα με το πρότυπο του Rutherford τα άτομα θα έπρεπε να εκπέμπουν συνεχές και όχι γραμμικό φάσμα.
- β. Ο Thomson πρότεινε το λεγόμενο πλανητικό μοντέλο για το άτομο.
- γ. Σύμφωνα με το πρότυπο του Bohr, το ηλεκτρόνιο στο άτομο του υδρογόνου, εκπέμπει ακτινοβολία όταν κινείται σε επιτρεπόμενη τροχιά.
- δ. Το σωματίο α είναι ένας πυρήνας ηλίου (${}^4_2\text{He}$).
- ε. Η ακτινοβολία γ δεν εκτρέπεται από μαγνητικό πεδίο.

Μονάδες 5

ΘΕΜΑ 2^ο

2.1 Η ενέργεια σύνδεσης E_{B_X} του πυρήνα ${}^A_{Z_1}X$ είναι μεγαλύτερη από την ενέργεια σύνδεσης E_{B_Ψ} του πυρήνα ${}^A_{Z_2}\Psi$.

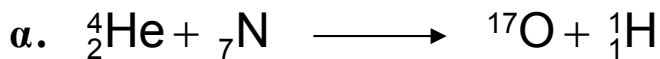
α. Ποιος από τους δύο παραπάνω πυρήνες είναι σταθερότερος;

Μονάδες 2


β. Να δικαιολογήσετε την απάντησή σας.

Μονάδες 5

2.2 Να μεταφέρετε συμπληρωμένες στο τετράδιό σας τις παρακάτω πυρηνικές αντιδράσεις:



Μονάδες 4



Μονάδες 4

2.3 Να αιτιολογήσετε γιατί ο δείκτης διάθλασης ενός οποιουδήποτε οπτικού μέσου για μια μονοχρωματική ακτινοβολία δεν είναι δυνατόν να είναι μικρότερος από τη μονάδα.

Μονάδες 5

2.4 Μονοχρωματική ακτινοβολία διαδίδεται σε δύο διαφορετικά υλικά, με δείκτες διάθλασης n_1 , n_2 , όπου $n_2 > n_1$. Να δείξετε ότι $\lambda_1 > \lambda_2$, όπου λ_1 και λ_2 τα αντίστοιχα μήκη κύματος.

Μονάδες 5

ΘΕΜΑ 3^ο

Διεγερμένα άτομα υδρογόνου αποδιεγείρονται και τα άτομα επανέρχονται στη θεμελιώδη κατάσταση. Η ενέργεια της θεμελιώδους κατάστασης είναι $E_1 = -13,6 \text{ eV}$. Από τη μελέτη των φασματικών γραμμών υπολογίστηκαν τρεις διαφορές ενεργειών μεταξύ των διεγερμένων καταστάσεων και της

θεμελιώδους κατάστασης και βρέθηκαν ίσες με $12,75\text{eV}$, $12,09\text{eV}$ και $10,2\text{eV}$.

A.1 Να υπολογίσετε τις ενέργειες που αντιστοιχούν στις διεγερμένες καταστάσεις των ατόμων υδρογόνου.

Μονάδες 6

A.2 Να υπολογίσετε τους κβαντικούς αριθμούς στους οποίους αντιστοιχούν οι διεγερμένες καταστάσεις.

Μονάδες 6

A.3 Να σχεδιάσετε το διάγραμμα των ενεργειακών σταθμών, στο οποίο να φαίνονται οι μεταβάσεις των ηλεκτρονίων που πραγματοποιούνται.

Μονάδες 5

A.4 Σε ένα από τα άτομα του υδρογόνου, που βρίσκεται πλέον στη θεμελιώδη κατάσταση, προσπίπτει μονοχρωματική ακτινοβολία, με συνέπεια το ηλεκτρόνιο του ατόμου του υδρογόνου να έχει κινητική ενέργεια $K=6,29\text{eV}$, σε περιοχή όπου η επίδραση του ηλεκτρικού πεδίου του πυρήνα είναι πρακτικά μηδέν.

Να υπολογίσετε τη συχνότητα της προσπίπτουσας ακτινοβολίας.

Μονάδες 8

Δίνονται : η σταθερά του Planck, $h = 6,63 \cdot 10^{-34}\text{J}\cdot\text{s}$ και η μονάδα ενέργειας $1\text{eV} = 1,6 \cdot 10^{-19}\text{J}$.

ΘΕΜΑ 4^ο

Προκειμένου να διαπιστωθεί η ύπαρξη κοιλότητας στο εσωτερικό ενός μεταλλικού αντικειμένου, χρησιμοποιούνται ακτίνες X. Στη διάταξη παραγωγής των ακτίνων X, η τάση που εφαρμόζεται μεταξύ της ανόδου και της καθόδου είναι 16.575V . Τα ηλεκτρόνια ξεκινούν από την κάθοδο με μηδενική ταχύτητα, επιταχύνονται και προσπίπτουν στην

άνοδο. Θεωρούμε ότι η θερμοκρασία της καθόδου είναι σταθερή και ότι η κινητική ενέργεια κάθε ηλεκτρονίου μετατρέπεται εξ ολοκλήρου σε ενέργεια ενός φωτονίου σε μία μόνο κρούση.

A. Να υπολογίσετε:

A.1 την κινητική ενέργεια που έχει κάθε ηλεκτρόνιο όταν φθάνει στην άνοδο

Μονάδες 6

A.2 το ελάχιστο μήκος κύματος της ακτινοβολίας που εκπέμπεται από το υλικό της ανόδου.

Μονάδες 6

B. Στην παραπάνω διάταξη παραγωγής ακτίνων X, μεταβάλλοντας την τάση μεταξύ ανόδου και καθόδου, η αρχική ισχύς P_1 της δέσμης των ηλεκτρονίων τετραπλασιάζεται και παίρνει την τιμή $P_2 = 4P_1$, ενώ η θερμοκρασία της καθόδου διατηρείται σταθερή και η ένταση του ρεύματος των ηλεκτρονίων παραμένει η ίδια. Να υπολογίσετε:

B.1 το λόγο των ταχυτήτων $\frac{U_1}{U_2}$, όπου U_1 και U_2 οι

ταχύτητες με τις οποίες τα ηλεκτρόνια προσπίπτουν στην άνοδο πριν και μετά τον τετραπλασιασμό της ισχύος, αντίστοιχα.

Μονάδες 7

B.2 το ελάχιστο μήκος κύματος της παραγόμενης ακτινοβολίας, μετά τον τετραπλασιασμό της ισχύος και να δικαιολογήσετε ποια από τις δύο ακτινοβολίες είναι περισσότερη διεισδυτική.

Μονάδες 6

Δίνονται : η σταθερά του Planck, $h = 6,63 \cdot 10^{-34} \text{ J} \cdot \text{s}$,
η ταχύτητα του φωτός στο κενό, $c_0 = 3 \cdot 10^8 \text{ m/s}$
και η μονάδα ενέργειας $1 \text{ eV} = 1,6 \cdot 10^{-19} \text{ J}$.

**ΑΠΟΛΥΤΗΡΙΕΣ ΕΞΕΤΑΣΕΙΣ Γ΄ ΤΑΞΗΣ ΕΝΙΑΙΟΥ ΛΥΚΕΙΟΥ
ΤΡΙΤΗ 4 ΙΟΥΝΙΟΥ 2002
ΕΞΕΤΑΖΟΜΕΝΟ ΜΑΘΗΜΑ ΓΕΝΙΚΗΣ ΠΑΙΔΕΙΑΣ:
ΦΥΣΙΚΗ
ΣΥΝΟΛΟ ΣΕΛΙΔΩΝ: ΕΞΙ (6)**

ΘΕΜΑ 1^ο

Στις ερωτήσεις 1-4 να γράψετε στο τετράδιό σας τον αριθμό της ερώτησης και δίπλα το γράμμα που αντιστοιχεί στη σωστή απάντηση.

1. Μονοχρωματική φωτεινή δέσμη, που διαδίδεται στον αέρα, προσπίπτει πλάγια στη διαχωριστική επιφάνεια διαφανούς οπτικού μέσου. Οι ακτίνες, που συνεχίζουν να διαδίδονται στο διαφανές οπτικό μέσον, έχουν σε σχέση με τις προσπίπτουσες:
 - α. την ίδια ταχύτητα
 - β. την ίδια διεύθυνση διάδοσης
 - γ. την ίδια συχνότητα
 - δ. το ίδιο μήκος κύματος.

Μονάδες 5

2. Κατά τη διάσπαση γ ενός ραδιενεργού πυρήνα χημικού στοιχείου:
 - α. αλλάζει ο μαζικός του αριθμός
 - β. αλλάζει ο ατομικός του αριθμός
 - γ. αλλάζει ο αριθμός των νετρονίων του
 - δ. δεν αλλάζει κανένας από τους παραπάνω αριθμούς.

Μονάδες 5

3. Ισότοποι ονομάζονται οι πυρήνες που ανήκουν στο ίδιο χημικό στοιχείο και έχουν τον ίδιο:
 - α. μαζικό αριθμό
 - β. ατομικό αριθμό

- γ. αριθμό νουκλεονίων
 δ. αριθμό νετρονίων.

Μονάδες 5

4. Στον παρακάτω πίνακα δίνονται οι ενέργειες σύνδεσης και οι ενέργειες σύνδεσης ανά νουκλεόνιο, τεσσάρων πυρήνων χημικών στοιχείων που απαντώνται στη φύση:

Πυρήνας στοιχείου	Ενέργεια σύνδεσης (MeV)	Ενέργεια σύνδεσης ανά νουκλεόνιο (MeV)
A	127,61	7,97
B	236,93	8,46
Γ	492,25	8,79
Δ	1801,72	7,57

Σταθερότερος είναι ο πυρήνας του χημικού στοιχείου:

- α. A, β. B, γ. Γ, δ. Δ.

Μονάδες 5

5. Να γράψετε στο τετράδιό σας τον αριθμό της ερώτησης και δίπλα τη λέξη που συμπληρώνει σωστά την αντίστοιχη πρόταση.

- α. Η υπέρυθη ηλεκτρομαγνητική ακτινοβολία έχει συχνότητα από αυτήν της υπεριώδους ακτινοβολίας.
- β. Η απομάκρυνση του ηλεκτρονίου ενός ατόμου υδρογόνου σε πολύ μεγάλη απόσταση από τον πυρήνα, σε περιοχή πρακτικά εκτός του ηλεκτρικού πεδίου του πυρήνα, ονομάζεται του ατόμου.
- γ. Ένα από τα συμπεράσματα των πειραμάτων του Thomson είναι ότι τα άτομα της ύλης είναι ηλεκτρικά

- δ. Η ιδιότητα μερικών χημικών ουσιών να ακτινοβολούν φως, όταν πάνω τους προσπίπτει αόρατη ακτινοβολία μικρού μήκους κύματος, ονομάζεται
- ε. Ο λαμπτήρας φθορισμού έχει διάρκεια ζωής από αυτήν ενός λαμπτήρα πυράκτωσης.

Μονάδες 5

ΘΕΜΑ 2^ο

- A.** Δύο μονοχρωματικές ηλεκτρομαγνητικές ακτινοβολίες Α και Β με συχνότητες, αντίστοιχα, f_A και f_B τέτοιες, ώστε $f_B = 2f_A$, διαδίδονται στο κενό. Αν λ_A είναι το μήκος κύματος της ακτινοβολίας Α, τότε το μήκος κύματος λ_B της ακτινοβολίας Β είναι ίσο με:

α. $2\lambda_A$, β. $\frac{\lambda_A}{2}$.

Μονάδες 3

Να αιτιολογήσετε την απάντησή σας.

Μονάδες 5

- B.** Αν σε μια συσκευή παραγωγής ακτίνων Χ ελαττώσουμε την τάση μεταξύ ανόδου - καθόδου, τότε το μικρότερο μήκος κύματος της ακτινοβολίας που εκπέμπεται:

- α. αυξάνεται
β. μειώνεται
γ. παραμένει το ίδιο.

Μονάδες 3

Να αιτιολογήσετε την απάντησή σας.

Μονάδες 5

- Γ.** Να αποδείξετε ότι η κινητική ενέργεια του ηλεκτρονίου, που περιφέρεται γύρω από τον ακίνητο πυρήνα του ατόμου του υδρογόνου, δίνεται από τη σχέση

$K = k \frac{e^2}{2r}$, όπου k η διηλεκτρική σταθερά του κενού, e το φορτίο του ηλεκτρονίου και r η ακτίνα της τροχιάς του.

Μονάδες 9

ΘΕΜΑ 3^ο

Ένα ραδιενεργό ισότοπο του χημικού στοιχείου Α έχει χρόνο ημιζωής $T_{1/2(A)} = 3,5 \cdot 10^5 \text{s}$. Ένα ραδιενεργό ισότοπο του χημικού στοιχείου Β έχει χρόνο ημιζωής $T_{1/2(B)} = 4T_{1/2(A)}$. Το ραδιενεργό ισότοπο Α, τη χρονική στιγμή $t_0 = 0$, έχει ενεργότητα $7,2 \cdot 10^5 \text{Bq}$. Να υπολογίσετε:

α. τη σταθερά διάσπασης λ_A του ραδιενεργού ισοτόπου Α,

Μονάδες 8

β. τον αρχικό αριθμό πυρήνων $N_{0(A)}$ του ισοτόπου Α,

Μονάδες 9

γ. το λόγο $\frac{\lambda_A}{\lambda_B}$, όπου λ_A και λ_B είναι οι σταθερές διάσπασης των ισοτόπων Α και Β αντίστοιχα.

Μονάδες 8

Δίνεται $\ln 2 = 0,7$.

ΘΕΜΑ 4^ο

Κατά την αποδιέγερση διεγερμένων ατόμων υδρογόνου, μεταξύ των ακτινοβολιών που εκπέμπονται παρατηρούνται και δύο ορατές μονοχρωματικές ακτινοβολίες Α και Β. Οι ακτινοβολίες Α και Β προέρχονται από τις μεταβάσεις ηλεκτρονίων απ' ευθείας στην ενεργειακή στάθμη με κύριο κβαντικό αριθμό $n = 2$ και ενέργεια κατάστασης $E_2 = -5,44 \cdot 10^{-19} \text{J}$. Κάθε φωτόνιο της ακτινοβολίας Α

έχει συχνότητα $f_A = 4,8 \cdot 10^{14}$ Hz και κάθε φωτόνιο της ακτινοβολίας B έχει μήκος κύματος στον αέρα (κενό) $\lambda_{0(B)} = 413,1 \cdot 10^{-9}$ m.

α. Να υπολογίσετε:

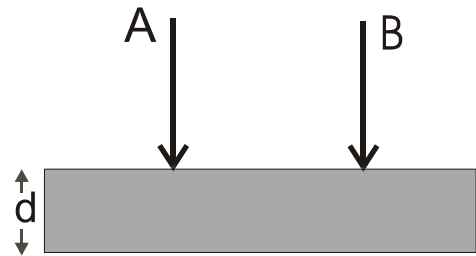
α.1 την ενέργεια του φωτονίου της ακτινοβολίας A,

Μονάδες 5

α.2 την ενέργεια της διεγερμένης κατάστασης από την οποία έγινε η μετάβαση των ηλεκτρονίων στη στάθμη $n = 2$, που είχε ως αποτέλεσμα την εκπομπή της ακτινοβολίας A.

Μονάδες 6

β. Οι ακτινοβολίες A και B καθώς διαδίδονται στον αέρα (κενό) προσπίπτουν ταυτόχρονα κάθετα στην επιφάνεια διαφανούς πλακιδίου πάχους d , με επίπεδες και παράλληλες τις απέναντι επιφάνειες, όπως φαίνεται στο σχήμα.



Από το πλακίδιο οι ακτίνες εξέρχονται με διαφορά χρόνου ίση με $\Delta t = 8 \cdot 10^{-12}$ s. Αν οι ταχύτητες διάδοσης των ακτινοβολιών A και B στο πλακίδιο είναι $c_A = \frac{c_0}{1,51}$ και $c_B = \frac{c_0}{1,53}$ αντίστοιχα, να υπολογίσετε:

β.1 το μήκος κύματος της ακτινοβολίας B μέσα στο πλακίδιο,

Μονάδες 6

β.2 το πάχος d του πλακιδίου.

Μονάδες 8

Δίνονται: η σταθερά του Planck $h = 6,3 \cdot 10^{-34}$ J · s

η ταχύτητα διάδοσης του φωτός στο κενό, $c_0 = 3 \cdot 10^8$ m/s.

**ΑΠΟΛΥΤΗΡΙΕΣ ΕΞΕΤΑΣΕΙΣ Γ΄ ΤΑΞΗΣ
ΗΜΕΡΗΣΙΟΥ ΕΝΙΑΙΟΥ ΛΥΚΕΙΟΥ
ΣΑΒΒΑΤΟ 31 ΜΑΪΟΥ 2003
ΕΞΕΤΑΖΟΜΕΝΟ ΜΑΘΗΜΑ: ΦΥΣΙΚΗ ΓΕΝΙΚΗΣ ΠΑΙΔΕΙΑΣ
ΣΥΝΟΛΟ ΣΕΛΙΔΩΝ: ΕΞΙ (6)**

ΘΕΜΑ 1^ο

Στις ερωτήσεις 1-4 να γράψετε στο τετράδιό σας τον αριθμό της ερώτησης και δίπλα το γράμμα που αντιστοιχεί στη σωστή απάντηση.

1. Λέγοντας "το φως έχει διπλή φύση" εννοούμε ότι:
 - α. απορροφάται και εκπέμπεται
 - β. αλληλεπιδρά με θετικά και αρνητικά φορτισμένα σωματίδια
 - γ. συμπεριφέρεται ως κύμα και ως σωματίδιο
 - δ. είναι συνδυασμός ηλεκτρικού και μαγνητικού κύματος.

Μονάδες 5

2. Σε μια εξώθερμη πυρηνική αντίδραση:
 - α. η συνολική μάζα ηρεμίας των προϊόντων είναι ίση με τη συνολική μάζα ηρεμίας των αντιδρώντων
 - β. η ενέργεια Q της αντίδρασης είναι θετική
 - γ. η ενέργεια Q της αντίδρασης είναι αρνητική
 - δ. δεν ισχύει ο νόμος της διατήρησης του συνολικού αριθμού των νουκλεονίων.

Μονάδες 5

3. Ο Rutherford κατά το βομβαρδισμό λεπτού φύλλου χρυσού με σωματίδια α παρατήρησε ότι:
 - α. κανένα σωματίδιο α δεν εκτρέπεται από την πορεία του

- β. όλα τα σωμάτια α εκτρέπονται κατά 180°
- γ. λίγα σωμάτια α εκτρέπονται κατά 180°
- δ. τα σωμάτια α έχουν αρνητικό φορτίο.

Μονάδες 5

4. Σύμφωνα με την κβαντική θεωρία του Planck, κάθε άτομο εκπέμπει ή απορροφά στοιχειώδη ποσά ενέργειας, που ονομάζονται:
- α. φωτόνια
 - β. ηλεκτρόνια
 - γ. ποζιτρόνια
 - δ. νετρόνια

Μονάδες 5

5. Να γράψετε στο τετράδιό σας το γράμμα της πρότασης και δίπλα τη λέξη που την συμπληρώνει **σωστά**.
- α. Η διαδικασία της συνένωσης δυο ελαφρών πυρήνων για να σχηματίσουν ένα βαρύτερο, λέγεται πυρηνική
 - β. Όσο μεγαλύτερη είναι η ενέργεια σύνδεσης ανά νουκλεόνιο τόσο είναι ο πυρήνας.
 - γ. Κατά τη διάσπαση β^- (βήτα πλην) εκπέμπεται από τον πυρήνα και αντινεutrίνο.
 - δ. Τα μήκη κύματος των ακτίνων X είναι πολύ από τα μήκη κύματος των ορατών ακτινοβολιών.
 - ε. Ατομικός αριθμός είναι ο αριθμός των του πυρήνα.

Μονάδες 5

ΘΕΜΑ 2^ο

1. Ερευνητής χειρίζεται συσκευή παραγωγής ακτίνων X και επιθυμεί να αυξήσει τη διεισδυτικότητά τους. Πώς θα πρέπει να μεταβάλει την τάση μεταξύ ανόδου-καθόδου της συσκευής;
- α. Να την αυξήσει.
- β. Να την ελαττώσει.

Μονάδες 2

Να δικαιολογήσετε την απάντησή σας.

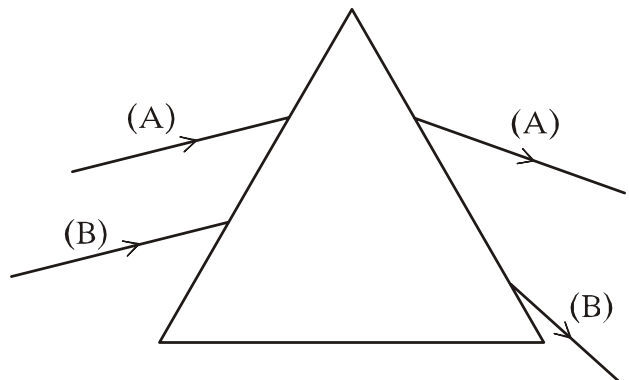
Μονάδες 5

2. Δυο παράλληλες ακτίνες μονοχρωματικού φωτός (Α) και (Β) προσπίπτουν σε πρίσμα και εκτρέπονται, όπως φαίνεται στο σχήμα. Ποια ακτίνα φωτός έχει το μεγαλύτερο μήκος κύματος;
- α. Η ακτίνα Α.
- β. Η ακτίνα Β.

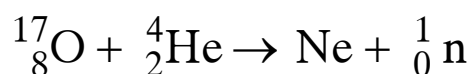
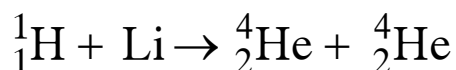
Μονάδες 2

Να δικαιολογήσετε την απάντησή σας.

Μονάδες 5



3. Να μεταφέρετε στο τετράδιό σας συμπληρωμένες τις παρακάτω πυρηνικές αντιδράσεις:



Μονάδες 4

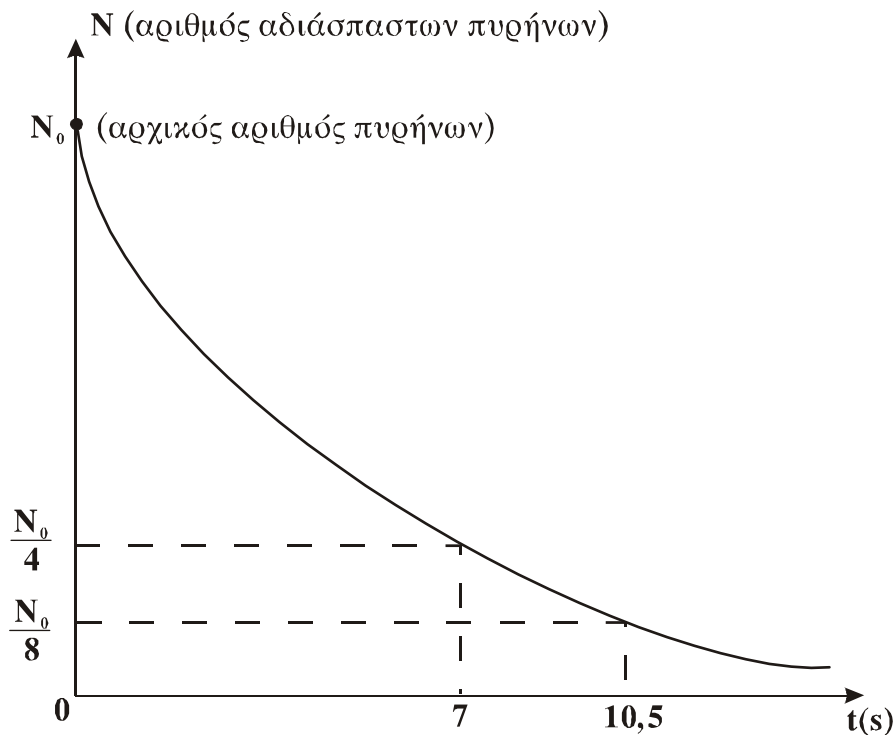
4. Το παρακάτω σχήμα παριστά την καμπύλη διάσπασης για ένα δείγμα ραδιενεργού στοιχείου. Ο χρόνος υποδιπλασιασμού του στοιχείου αυτού είναι:

- α. 7s β. 10,5s γ. 3,5s

Μονάδες 2

Να δικαιολογήσετε την απάντησή σας.

Μονάδες 5



ΘΕΜΑ 3^ο

Ακτίνα ορατής μονοχρωματικής ακτινοβολίας συχνότητας $6 \cdot 10^{14}$ Hz, διέρχεται από τον αέρα σε γυάλινη πλάκα. Ο δείκτης διάθλασης του γυαλιού για την παραπάνω ακτινοβολία είναι 1,5.

1. Να υπολογίσετε το μήκος κύματος της ακτινοβολίας λ_0 στο κενό.

Μονάδες 6

2. Να υπολογίσετε την ταχύτητα διάδοσης της ακτινοβολίας μέσα στο γυαλί.

Μονάδες 6

3. Να υπολογίσετε το μήκος κύματος της ακτινοβολίας λ μέσα στο γυαλί.

Μονάδες 6

4. Να βρείτε πόσο διαφέρει η ενέργεια ενός φωτονίου της ακτινοβολίας στο κενό από την ενέργεια του φωτονίου αυτού, όταν η ακτίνα βρίσκεται μέσα στο γυαλί.

Μονάδες 7

Δίνονται: η ταχύτητα του φωτός στο κενό $c_0=3 \cdot 10^8 \text{ m/s}$

ΘΕΜΑ 4^ο

Κινούμενο ηλεκτρόνιο συγκρούεται με ακίνητο άτομο υδρογόνου, το οποίο βρίσκεται στη θεμελιώδη κατάσταση με ενέργεια $E_1=-13,6 \text{ eV}$. Η κινητική ενέργεια του ηλεκτρονίου πριν από την κρούση είναι $16,12 \text{ eV}$. Το άτομο του υδρογόνου απορροφά μέρος της ενέργειας του προσπίπτοντος ηλεκτρονίου, διεγείρεται στη δεύτερη διεγερμένη στάθμη ($n=3$) και εξακολουθεί να παραμένει ακίνητο μετά την κρούση.

1. Να σχεδιάσετε στο τετράδιό σας σε διάγραμμα ενεργειακών σταθμών όλες τις δυνατές μεταβάσεις από τη διεγερμένη κατάσταση ($n=3$) στη θεμελιώδη κατάσταση.

Μονάδες 4

2. Να υπολογίσετε το μήκος κύματος του φωτονίου που εκπέμπεται κατά την αποδιέγερση του ατόμου από την κατάσταση $n=3$ στην κατάσταση $n=2$.

Μονάδες 6

3. Να υπολογίσετε το ποσοστό (επί τοις εκατό) της κινητικής ενέργειας του προσπίπτοντος ηλεκτρονίου που απορροφήθηκε από το άτομο του υδρογόνου κατά την κρούση.

Μονάδες 7

4. Να υπολογίσετε την κινητική ενέργεια και το μέτρο της στροφορμής του ηλεκτρονίου του ατόμου του υδρογόνου στη διεγερμένη κατάσταση $n=3$.

Μονάδες 8

Δίνονται: η ταχύτητα του φωτός στο κενό $c_0=3\cdot 10^8$ m/s
η σταθερά του Planck, $h=6,6\cdot 10^{-34}$ J·s
 $1\text{eV}=1,6\cdot 10^{-19}$ J και $\pi=3,14$.

ΟΔΗΓΙΕΣ (για τους εξεταζόμενους)

1. Στο τετράδιο να γράψετε μόνο τα προκαταρκτικά (ημερομηνία, εξεταζόμενο μάθημα). Τα θέματα να μην τα αντιγράψετε στο τετράδιο. Τα σχήματα που θα χρησιμοποιήσετε στο τετράδιο μπορούν να γίνουν με στυλό διαρκείας μπλε ή μαύρου χρώματος.
2. Να γράψετε το ονοματεπώνυμό σας στο πάνω μέρος των φωτοαντιγράφων αμέσως μόλις σας παραδοθούν. Καμιά άλλη σημείωση δεν επιτρέπεται να γράψετε. Κατά την αποχώρησή σας να παραδώσετε μαζί με το τετράδιο και τα φωτοαντίγραφα.
3. Να απαντήσετε στο τετράδιό σας σε όλα τα ζητήματα.
4. Κάθε λύση επιστημονικά τεκμηριωμένη είναι αποδεκτή.
5. Διάρκεια εξέτασης: Τρεις (3) ώρες μετά τη διανομή των φωτοαντιγράφων
6. Χρόνος δυνατής αποχώρησης: Μετά την 10.30 πρωινή.

ΚΑΛΗ ΕΠΙΤΥΧΙΑ

ΤΕΛΟΣ ΜΗΝΥΜΑΤΟΣ

**ΕΠΑΝΑΛΗΠΤΙΚΕΣ
ΑΠΟΛΥΤΗΡΙΕΣ ΕΞΕΤΑΣΕΙΣ Γ΄ ΤΑΞΗΣ
ΗΜΕΡΗΣΙΟΥ ΕΝΙΑΙΟΥ ΛΥΚΕΙΟΥ
ΔΕΥΤΕΡΑ 7 ΙΟΥΛΙΟΥ 2003
ΕΞΕΤΑΖΟΜΕΝΟ ΜΑΘΗΜΑ: ΦΥΣΙΚΗ ΓΕΝΙΚΗΣ ΠΑΙΔΕΙΑΣ
ΣΥΝΟΛΟ ΣΕΛΙΔΩΝ: ΕΞΙ (6)**

ΘΕΜΑ 1ο

Στις ερωτήσεις 1-5 να γράψετε στο τετράδιό σας τον αριθμό της ερώτησης και δίπλα το γράμμα που αντιστοιχεί στη σωστή απάντηση.

1. Η τιμή του δείκτη διάθλασης ενός οπτικού μέσου :
 - α. είναι ίδια για όλα τα μήκη κύματος της ορατής ακτινοβολίας
 - β. αυξάνεται, όταν ελαττώνεται το μήκος κύματος της ορατής ακτινοβολίας
 - γ. ελαττώνεται, όταν ελαττώνεται το μήκος κύματος της ορατής ακτινοβολίας
 - δ. εξαρτάται μόνο από το υλικό του οπτικού μέσου.

Μονάδες 4

2. Το πρότυπο του Bohr:
 - α. ερμηνεύει τα γραμμικά φάσματα των ατόμων που έχουν δύο ή περισσότερα ηλεκτρόνια
 - β. υποθέτει ότι στο άτομο του υδρογόνου η στροφορμή του ηλεκτρονίου μπορεί να πάρει οποιαδήποτε τιμή
 - γ. υποθέτει ότι το ηλεκτρόνιο στο άτομο του υδρογόνου κινείται μόνο σε ορισμένες τροχιές
 - δ. συμπεραίνει ότι το άτομο του υδρογόνου εκπέμπει συνεχές φάσμα.

Μονάδες 4

3. Στο λαμπτήρα πυρακτώσεως, η εκπομπή των φωτονίων γίνεται μόνο σε μικρό ποσοστό (10%) στην περιοχή του ορατού φωτός. Το υπόλοιπο ποσοστό των φωτονίων εκπέμπεται και θερμαίνει το περιβάλλον ως :
- α. υπεριώδης ακτινοβολία
 - β. ακτίνες γ
 - γ. μικροκύματα
 - δ. υπέρυθρη ακτινοβολία.

Μονάδες 4

4. Σε ποιο από τα παρακάτω ζεύγη σωματιδίων ενός ατόμου **δεν** εμφανίζεται ισχυρή πυρηνική δύναμη;
- α. ηλεκτρόνιο - πρωτόνιο
 - β. πρωτόνιο - πρωτόνιο
 - γ. πρωτόνιο - νετρόνιο
 - δ. νετρόνιο - νετρόνιο .

Μονάδες 4

5. Τα ραδιενεργά ισότοπα ενός στοιχείου έχουν τον ίδιο :
- α. μαζικό αριθμό
 - β. ατομικό αριθμό
 - γ. αριθμό νετρονίων
 - δ. χρόνο υποδιπλασιασμού.

Μονάδες 4

6. *Να γράψετε στο τετράδιό σας το γράμμα της πρότασης και δίπλα τη λέξη που τη συμπληρώνει σωστά.*
- α. Μια νέα μέθοδος ιατρικής απεικόνισης, κυρίως του εγκεφάλου, είναι η τομογραφία εκπομπής

- β. Ο Planck, για να ερμηνεύσει την ακτινοβολία που παράγει ένα θερμαινόμενο σώμα, εισήγαγε τη θεωρία των φωτός.
- γ. Στους αντιδραστήρες παράγονται λίγα ραδιενεργά κατάλοιπα.
- δ. Στο φαινόμενο του ουράνιου τόξου η φύση συνδυάζει δύο φαινόμενα, το και την ολική ανάκλαση.
- ε. Η απομάκρυνση ενός ηλεκτρονίου του ατόμου σε περιοχή εκτός του ηλεκτρικού πεδίου του πυρήνα του, ονομάζεται του ατόμου.

Μονάδες 5

ΘΕΜΑ 2ο

1. Φωτόνιο διαδίδεται στον αέρα και απορροφάται από άτομο υδρογόνου, το οποίο διεγείρεται από τη θεμελιώδη ενεργειακή στάθμη στην Α ενεργειακή στάθμη. Φωτόνιο της ίδιας ενέργειας με το προηγούμενο, διέρχεται πρώτα μέσα από διαφανές υλικό και στη συνέχεια απορροφάται από άτομο υδρογόνου που βρίσκεται στη θεμελιώδη ενεργειακή στάθμη. Το άτομο αυτό θα διεγερθεί σε ενεργειακή στάθμη :
- α. χαμηλότερη της Α
- β. υψηλότερη της Α
- γ. ίδια με την Α.

Μονάδες 3

Να δικαιολογήσετε την απάντησή σας.

Μονάδες 5

2. Οι πυρήνες ${}^{12}_6\text{X}$ και ${}^{56}_{26}\text{Y}$ έχουν ενέργεια σύνδεσης 92 MeV και 492 MeV, αντίστοιχα. Σταθερότερος πυρήνας είναι :

α. ο πυρήνας ${}^{12}_6\text{X}$

β. ο πυρήνας ${}^{56}_{26}\text{Y}$.

Μονάδες 3

Να δικαιολογήσετε την απάντησή σας.

Μονάδες 6

3. Δύο συμπαγείς και ομογενείς μεταλλικές πλάκες έχουν το ίδιο πάχος. Η μία είναι από ${}^{56}_{26}\text{Fe}$ και η άλλη από ${}^{208}_{82}\text{Pb}$. Στις δύο πλάκες προσπίπτουν κάθετα ακτίνες X του ίδιου μήκους κύματος. Μεγαλύτερη απορρόφηση ακτίνων X, θα προκαλέσει η πλάκα:

α. από ${}^{56}_{26}\text{Fe}$

β. από ${}^{208}_{82}\text{Pb}$.

Μονάδες 3

Να δικαιολογήσετε την απάντησή σας.

Μονάδες 5

ΘΕΜΑ 3ο

Συσκευή παραγωγής ακτίνων X λειτουργεί για χρόνο 0,16s. Τα ηλεκτρόνια ξεκινούν από την κάθοδο της συσκευής με μηδενική ταχύτητα. Η δέσμη των ηλεκτρονίων έχει ισχύ 960W. Όταν ένα ηλεκτρόνιο προσπίπτει στην άνοδο και όλη η κινητική του ενέργεια μετατρέπεται σε ενέργεια ενός φωτονίου, η συχνότητα του παραγόμενου φωτονίου είναι $3 \cdot 10^{18}\text{Hz}$. Να υπολογίσετε :

1. το ελάχιστο μήκος κύματος των παραγόμενων ακτίνων X.

Μονάδες 5

2. τη διαφορά δυναμικού μεταξύ ανόδου – καθόδου.
Μονάδες 6
3. την ταχύτητα με την οποία τα ηλεκτρόνια προσπίπτουν στην άνοδο.
Μονάδες 7
4. τον αριθμό των ηλεκτρονίων που προσπίπτουν στην άνοδο κατά τη διάρκεια λειτουργίας της συσκευής.
Μονάδες 7

Δίνονται: ταχύτητα του φωτός στο κενό $c_0=3 \cdot 10^8 \text{ m/s}$
σταθερά του Planck, $h=6,4 \cdot 10^{-34} \text{ J}\cdot\text{s}$
απόλυτη τιμή του φορτίου του ηλεκτρονίου,
 $e = 1,6 \cdot 10^{-19} \text{ C}$
μάζα του ηλεκτρονίου $m_e = 9 \cdot 10^{-31} \text{ kg}$.

ΘΕΜΑ 4ο

Δύο από τα ισότοπα του καλίου είναι το σταθερό ${}_{19}^{39}\text{K}$ και το ασταθές ${}_{19}^{40}\text{K}$. Ο χρόνος υποδιπλασιασμού του ισοτόπου ${}_{19}^{40}\text{K}$ είναι $1,15 \cdot 10^9$ χρόνια.

1. Να υπολογίσετε τη σταθερά διάσπασης του πυρήνα ${}_{19}^{40}\text{K}$.
Μονάδες 5
2. Τη χρονική στιγμή t , ένα δείγμα περιέχει $8 \cdot 10^{15}$ πυρήνες ${}_{19}^{40}\text{K}$. Να υπολογίσετε την ενεργότητα του δείγματος :
 - α) τη χρονική στιγμή t .
Μονάδες 5
 - β) $2,3 \cdot 10^9$ χρόνια, μετά τη χρονική στιγμή t .
Μονάδες 7
3. Να υποθέσετε ότι, όταν δημιουργήθηκε στη γη ένα πέτρωμα, οι αριθμοί των πυρήνων $N_{0(39)}$ και $N_{0(40)}$ των

ισοτόπων ${}_{19}^{39}\text{K}$ και ${}_{19}^{40}\text{K}$ αντίστοιχα, ήταν ίσοι. Σήμερα, στο πέτρωμα αυτό, οι αριθμοί των πυρήνων $N_{(39)}$ και $N_{(40)}$ των δύο αυτών ισοτόπων, έχουν λόγο $\frac{N_{(39)}}{N_{(40)}}$ ίσο με 16. Να υπολογίσετε την ηλικία αυτού του πετρώματος.

Μονάδες 8

Δίνονται: $\ln 2 = 0,69$

1 έτος = $3 \cdot 10^7 \text{ s}$.

ΟΔΗΓΙΕΣ (για τους εξεταζόμενους)

1. Στο τετράδιο να γράψετε μόνο τα προκαταρκτικά (ημερομηνία, εξεταζόμενο μάθημα). Τα θέματα να μην τα αντιγράψετε στο τετράδιο. Τα σχήματα που θα χρησιμοποιήσετε στο τετράδιο μπορούν να γίνουν με στυλό διαρκείας μπλε ή μαύρου χρώματος.
2. Να γράψετε το ονοματεπώνυμό σας στο πάνω μέρος των φωτοαντιγράφων αμέσως μόλις σας παραδοθούν. Καμιά άλλη σημείωση δεν επιτρέπεται να γράψετε. Κατά την αποχώρησή σας να παραδώσετε μαζί με το τετράδιο και τα φωτοαντίγραφα.
3. Να απαντήσετε στο τετράδιό σας σε όλα τα ζητήματα.
4. Κάθε λύση επιστημονικά τεκμηριωμένη είναι αποδεκτή.
5. Διάρκεια εξέτασης: Τρεις (3) ώρες μετά τη διανομή των φωτοαντιγράφων.
6. Χρόνος δυνατής αποχώρησης: μετά τη 10:00η πρωινή.

ΚΑΛΗ ΕΠΙΤΥΧΙΑ

ΤΕΛΟΣ ΜΗΝΥΜΑΤΟΣ

**ΑΠΟΛΥΤΗΡΙΕΣ ΕΞΕΤΑΣΕΙΣ Γ' ΤΑΞΗΣ
ΗΜΕΡΗΣΙΟΥ ΕΝΙΑΙΟΥ ΛΥΚΕΙΟΥ
ΣΑΒΒΑΤΟ 29 ΜΑΪΟΥ 2004
ΕΞΕΤΑΖΟΜΕΝΟ ΜΑΘΗΜΑ: ΦΥΣΙΚΗ ΓΕΝΙΚΗΣ ΠΑΙΔΕΙΑΣ
ΣΥΝΟΛΟ ΣΕΛΙΔΩΝ: ΕΞΙ (6)**

ΘΕΜΑ 1^ο

Στις ερωτήσεις 1-4 να γράψετε στο τετράδιό σας τον αριθμό της ερώτησης και δίπλα το γράμμα που αντιστοιχεί στη σωστή απάντηση.

1. Σύμφωνα με την ηλεκτρομαγνητική θεωρία του Maxwell το ηλεκτρομαγνητικό κύμα παράγεται, όταν ένα ηλεκτρικό φορτίο:
 - α. ηρεμεί
 - β. κινείται ευθύγραμμα και ομαλά
 - γ. επιταχύνεται
 - δ. όλα τα παραπάνω.

Μονάδες 5

2. Ο λαμπτήρας αλογόνου:
 - α. περιέχει ατμούς ιωδίου
 - β. περιέχει σταγόνα υδραργύρου
 - γ. δεν έχει θερμαινόμενο νήμα
 - δ. έχει μικρότερη απόδοση φωτός από τον κοινό λαμπτήρα πυρακτώσεως.

Μονάδες 5

3. Όταν ένας πυρήνας αποδιεγείρεται, εκπέμπει:
 - α. φωτόνιο υπεριώδους ακτινοβολίας
 - β. ακτίνες γ

- γ. φωτόνιο με ενέργεια της ίδιας τάξης με το φωτόνιο που εκπέμπεται κατά τις αποδιεγέρσεις των ατόμων
- δ. φωτόνιο ορατής ακτινοβολίας.

Μονάδες 5

4. Σύμφωνα με το κλασικό μοντέλο του Rutherford για το άτομο
- α. το φάσμα εκπομπής από ένα άτομο πρέπει να είναι συνεχές
 - β. το θετικό φορτίο είναι ομοιόμορφα κατανεμημένο μέσα στο άτομο
 - γ. η στροφορμή του ηλεκτρονίου είναι κβαντωμένη
 - δ. η ακτίνα του πυρήνα είναι της τάξης μεγέθους 10^{-10} m.

Μονάδες 5

*Στην παρακάτω ερώτηση 5 να γράψετε στο τετράδιό σας το γράμμα κάθε πρότασης και δίπλα σε κάθε γράμμα τη λέξη **Σωστό** για τη σωστή πρόταση και τη λέξη **Λάθος** για τη λανθασμένη.*

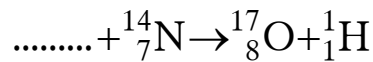
5. α. Η ταχύτητα με την οποία διαδίδεται στο κενό η ορατή ακτινοβολία είναι μεγαλύτερη από εκείνη της υπέρυθρης.
- β. Στο γραμμικό φάσμα απορρόφησης των ατμών νατρίου εμφανίζονται σκοτεινές γραμμές εκεί όπου εμφανίζονται οι φωτεινές γραμμές του γραμμικού φάσματος εκπομπής του.
- γ. Όταν ακτίνα μονοχρωματικού φωτός περάσει από τον αέρα σε γυαλί, η συχνότητά της δε μεταβάλλεται.
- δ. Η ενέργεια των νουκλεονίων ενός πυρήνα μπορεί να πάρει οποιαδήποτε τιμή.

- ε. Το ορατό φως στους λαμπτήρες φθορισμού προέρχεται κυρίως από τη μετατροπή της υπέρυθρης ακτινοβολίας σε ορατή από τη φθορίζουσα επιφάνεια των λαμπτήρων.

Μονάδες 5

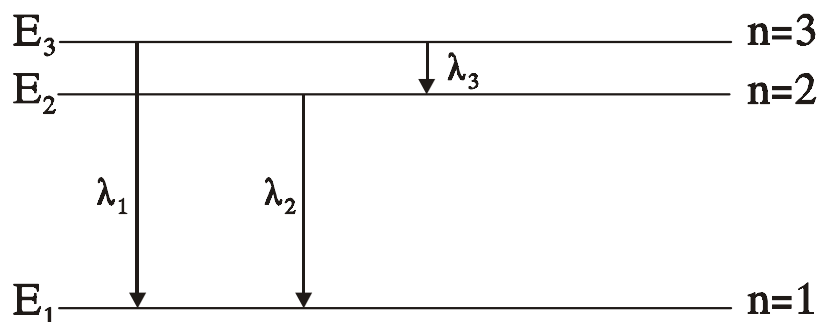
ΘΕΜΑ 2^ο

1. Να μεταφέρετε στο τετράδιό σας συμπληρωμένες τις παρακάτω πυρηνικές αντιδράσεις:



Μονάδες 6

2. Το σχήμα δείχνει το διάγραμμα των ενεργειακών σταθμών του ατόμου του υδρογόνου. Τα μήκη κύματος $\lambda_1, \lambda_2, \lambda_3$ είναι τα μήκη κύματος της ακτινοβολίας που εκπέμπεται κατά τις μεταβάσεις του ηλεκτρονίου μεταξύ



των ενεργειακών σταθμών, όπως δείχνουν τα βέλη. Η σχέση που συνδέει τα μήκη κύματος λ_1, λ_2 και λ_3 είναι:

- α. $\lambda_1 = \lambda_2 + \lambda_3$ β. $\frac{\lambda_2}{\lambda_1} = \frac{\lambda_1}{\lambda_3}$ γ. $\lambda_1 = \frac{\lambda_2 \cdot \lambda_3}{\lambda_2 + \lambda_3}$

Να γράψετε στο τετράδιό σας τον αριθμό της παραπάνω ερώτησης και δίπλα το γράμμα που αντιστοιχεί στη σωστή απάντηση.

Μονάδες 4

Να αιτιολογήσετε την απάντησή σας

Μονάδες 7

Να γράψετε στο τετράδιό σας τον αριθμό της παρακάτω ερώτησης 3 και δίπλα το γράμμα που αντιστοιχεί στη σωστή απάντηση.

3. Ένας πυρήνας με μαζικό αριθμό 200 και ενέργεια σύνδεσης ανά νουκλεόνιο 8MeV χωρίζεται με κάποια αντίδραση σε 2 μεσαίους πυρήνες με μαζικούς αριθμούς 100 οι οποίοι έχουν ενέργεια σύνδεσης ανά νουκλεόνιο 8,8MeV.

Η διαδικασία είναι:

- α. εξώθερμη
- β. ενδόθερμη

Μονάδες 3

Να αιτιολογήσετε την απάντησή σας

Μονάδες 5

ΘΕΜΑ 3^ο

Η διαφορά δυναμικού σε σωλήνα παραγωγής ακτίνων X είναι $2 \cdot 10^4$ V. Τα ηλεκτρόνια εκπέμπονται από την κάθοδο και φθάνουν στην άνοδο με ρυθμό 10^{17} ηλεκτρόνια ανά δευτερόλεπτο.

Να υπολογίσετε:

- α. την ένταση του ρεύματος των ηλεκτρονίων στον σωλήνα παραγωγής των ακτίνων X.

Μονάδες 8

- β. το ελάχιστο μήκος κύματος λ_{\min} των παραγομένων ακτίνων X.

Μονάδες 8

- γ. την ισχύ P_x των παραγομένων ακτίνων X, αν η απόδοση του σωλήνα παραγωγής ακτίνων X είναι 2%.

Μονάδες 9

Δίνεται η απόλυτη τιμή του φορτίου του ηλεκτρονίου $e=1,6 \cdot 10^{-19}$ C, η σταθερά του Planck $h=6,4 \cdot 10^{-34}$ J·s και η ταχύτητα του φωτός $c=3 \cdot 10^8$ m/s.

ΘΕΜΑ 4^ο

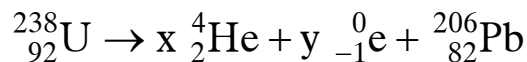
Το ${}_{92}^{238}\text{U}$ έχει χρόνο ημιζωής $4,5 \cdot 10^9$ χρόνια και με μια σειρά από διασπάσεις α και β^- καταλήγει στο σταθερό ισότοπο ${}_{82}^{206}\text{Pb}$. Θεωρούμε ότι όλοι οι πυρήνες ${}_{92}^{238}\text{U}$ που διασπώνται καταλήγουν σε ${}_{82}^{206}\text{Pb}$.

Ένα ορυκτό τη στιγμή της δημιουργίας του περιείχε ${}_{92}^{238}\text{U}$ και καθόλου ${}_{82}^{206}\text{Pb}$.

Σήμερα στο ορυκτό αυτό ο λόγος του αριθμού των πυρήνων ${}_{82}^{206}\text{Pb}$ προς τον αριθμό των πυρήνων ${}_{92}^{238}\text{U}$ είναι $\frac{1}{8}$.

Να υπολογίσετε:

α. τον αριθμό των διασπάσεων α και β^- σύμφωνα με την παρακάτω αντίδραση διάσπασης του ${}_{92}^{238}\text{U}$.



Μονάδες 8

β. τη σταθερά διάσπασης του ${}_{92}^{238}\text{U}$

Μονάδες 8

γ. την ηλικία του ορυκτού σε χρόνια.

Μονάδες 9

Δίνεται: $1 \text{ χρόνος} = 3 \cdot 10^7 \text{ s}$.

Παραδεχθείτε ότι:

$\ln 2 = 0,7$, $\ln 8 = 2,1$, $\ln 9 = 2,2$.

**ΕΠΑΝΑΛΗΠΤΙΚΕΣ ΑΠΟΛΥΤΗΡΙΕΣ ΕΞΕΤΑΣΕΙΣ
Γ΄ ΤΑΞΗΣ ΗΜΕΡΗΣΙΟΥ ΕΝΙΑΙΟΥ ΛΥΚΕΙΟΥ
ΠΑΡΑΣΚΕΥΗ 2 ΙΟΥΛΙΟΥ 2004
ΕΞΕΤΑΖΟΜΕΝΟ ΜΑΘΗΜΑ: ΦΥΣΙΚΗ ΓΕΝΙΚΗΣ ΠΑΙΔΕΙΑΣ
ΣΥΝΟΛΟ ΣΕΛΙΔΩΝ: ΕΞΙ (6)**

ΘΕΜΑ 1ο

Στις ερωτήσεις 1-4 να γράψετε στο τετράδιό σας τον αριθμό της ερώτησης και δίπλα το γράμμα που αντιστοιχεί στη σωστή απάντηση.

1. Η θεωρία των κβάντα :

- α. δέχεται ότι κάθε άτομο απορροφά και εκπέμπει ενέργεια κατά συνεχή τρόπο.
- β. δέχεται ότι η ενέργεια των φωτονίων είναι ανάλογη με τη συχνότητά τους.
- γ. ερμηνεύει φαινόμενα που σχετίζονται με την κυματική φύση του φωτός.
- δ. δεν ερμηνεύει το φωτοηλεκτρικό φαινόμενο.

Μονάδες 5

2. Κατά τη ραδιενεργό διάσπαση α ο θυγατρικός πυρήνας σε σχέση με το μητρικό έχει:

- α. μεγαλύτερο μαζικό αριθμό.
- β. ίδιο μαζικό αριθμό.
- γ. μικρότερο ατομικό αριθμό.
- δ. ίδιο αριθμό νετρονίων.

Μονάδες 5

3. Σε ένα λαμπτήρα πυρακτώσεως βολφραμίου:

- α. παράγεται κατά κύριο λόγο ορατό φως από την αποδιέγερση των ατόμων του βολφραμίου.

- β. η απόδοσή του σε ορατό φως είναι μεγαλύτερη από την απόδοση του λαμπτήρα αλογόνου.
- γ. η διάρκεια ζωής του εξαρτάται από την ισχύ του και είναι 750 έως 1.500 ώρες λειτουργίας.
- δ. στο εσωτερικό του γυάλινου περιβλήματος που προστατεύει το νήμα επικρατεί υψηλό κενό.

Μονάδες 5

4. Σύμφωνα με το ατομικό πρότυπο του Rutherford:

- α. τα φάσματα απορρόφησης των αερίων θα είναι γραμμικά.
- β. τα ηλεκτρόνια κατά την κίνησή τους γύρω από τον πυρήνα δεν θα ακτινοβολούν ενέργεια.
- γ. τα άτομα θα εκπέμπουν συνεχές φάσμα.
- δ. τίποτα από τα παραπάνω.

Μονάδες 5

*Στην παρακάτω ερώτηση 5 να γράψετε στο τετράδιό σας το γράμμα κάθε πρότασης και δίπλα σε κάθε γράμμα τη λέξη **Σωστό** για τη σωστή πρόταση ή τη λέξη **Λάθος** για τη λανθασμένη.*

- 5. α. Μία ερυθρή φωτεινή δέσμη εκτρέπεται περισσότερο από μία ιώδη, όταν διέρχονται από γυάλινο πρίσμα.
- β. Στο ουράνιο τόξο η σειρά με την οποία παρατηρούνται τα βασικά χρώματα είναι: ιώδες – μπλε – κίτρινο – πράσινο – πορτοκαλί – ερυθρό.
- γ. Η υπέρυθη ακτινοβολία προκαλεί χημική δράση και βλάπτει τα κύτταρα του δέρματος.
- δ. Η ακτινοβολία που έχει μήκος κύματος μικρότερο των 400 nm και μεγαλύτερο του 1nm ονομάζεται υπεριώδης.

- ε. Διασκεδασμός είναι η ανάκλαση του φωτός προς κάθε κατεύθυνση.

Μονάδες 5

ΘΕΜΑ 2ο

Να γράψετε στο τετράδιό σας τον αριθμό των παρακάτω ερωτήσεων 1 - 4 και δίπλα το γράμμα που αντιστοιχεί στη σωστή απάντηση.

1. Από τρία πλακίδια ίδιου πάχους των παρακάτω υλικών ποιο απορροφά περισσότερο τις ακτίνες X;
- α. Το ${}_{20}^{40}\text{Ca}$
- β. Το ${}_{56}^{141}\text{Ba}$
- γ. Το ${}_{19}^{39}\text{K}$

Μονάδες 2

Να δικαιολογήσετε την απάντησή σας.

Μονάδες 4

2. Στο ατομικό πρότυπο του Bohr για το υδρογόνο, αν K_1 , K_2 είναι οι κινητικές ενέργειες και L_1 , L_2 τα μέτρα των στροφορμών των ηλεκτρονίων στις επιτρεπόμενες τροχιές με κβαντικό αριθμό $n = 1$ και $n = 2$, τότε ισχύει:

α. $\frac{K_1}{K_2} = 2$ και $\frac{L_1}{L_2} = \frac{1}{2}$

β. $\frac{K_1}{K_2} = 4$ και $\frac{L_1}{L_2} = \frac{1}{2}$

γ. $\frac{K_1}{K_2} = 4$ και $\frac{L_1}{L_2} = 2$

Μονάδες 3

Να δικαιολογήσετε την απάντησή σας.

Μονάδες 4

3. Για να είναι σταθερός ένας πυρήνας με μεγάλο ατομικό αριθμό, χρειάζεται:
- α. μεγαλύτερο αριθμό νετρονίων.
 - β. μεγαλύτερο αριθμό πρωτονίων.
 - γ. ίσο αριθμό πρωτονίων και νετρονίων.

Μονάδες 2

Να δικαιολογήσετε την απάντησή σας.

Μονάδες 4

4. Μονοχρωματική ακτίνα φωτός διαδίδεται σε ένα υλικό που έχει δείκτη διάθλασης 1,4 έχοντας μήκος κύματος στο υλικό 500nm. Το χρώμα της ακτίνας φωτός είναι:
- α. ερυθρό.
 - β. πράσινο.
 - γ. μπλε.

Μονάδες 2

Να δικαιολογήσετε την απάντησή σας.

Μονάδες 4

Δίνονται τα μήκη κύματος των τριών χρωμάτων στο κενό: ερυθρό 700 nm, πράσινο 500 nm και μπλε 450 nm.

ΘΕΜΑ 3ο

Το ηλεκτρόνιο ενός διεγερμένου ατόμου υδρογόνου περιστρέφεται σε επιτρεπόμενη τροχιά, στην οποία η δυναμική του ενέργεια είναι $-1,7 \text{ eV}$.

A. Να υπολογίσετε:

A.1. την ολική ενέργεια και την κινητική ενέργεια του ηλεκτρονίου.

Μονάδες 6

A.2. τον κβαντικό αριθμό n που αντιστοιχεί στην τροχιά του ηλεκτρονίου.

Μονάδες 6

B. Το ηλεκτρόνιο απορροφά ενέργεια και μεταπηδά σε τροχιά στην οποία έχει ολική ενέργεια μεγαλύτερη κατά 0,306 eV από την αρχική. Κατά τη μετάβαση του ηλεκτρονίου από την αρχική στην τελική τροχιά να υπολογίσετε:

B.1. τη μεταβολή στο μέτρο της στροφορμής του.

Μονάδες 6

B.2. τη μεταβολή της απόστασής του από τον πυρήνα.

Μονάδες 7

Δίνονται: Η ολική ενέργεια του ατόμου του υδρογόνου στη θεμελιώδη κατάσταση $E_1 = -13,6 \text{ eV}$, η ακτίνα του Bohr $r_1 = 0,5 \cdot 10^{-10} \text{ m}$ και η σταθερά $\hbar = \frac{h}{2\pi} = 1,05 \cdot 10^{-34} \text{ J}\cdot\text{s}$.

ΘΕΜΑ 4ο

Ραδιενεργό υλικό αποτελείται από δύο ραδιενεργά στοιχεία X και Y, τα οποία έχουν χρόνους ημιζωής 4h και 2h αντίστοιχα. Ο συνολικός αριθμός των πυρήνων των στοιχείων X και Y τη χρονική στιγμή $t_0 = 0$ είναι $1,296 \cdot 10^9$, ενώ τη χρονική στιγμή $t = 8\text{h}$ είναι $1,35 \cdot 10^8$.

Να υπολογίσετε:

α. τις σταθερές διάσπασης των πυρήνων X και Y.

Μονάδες 4

β. για κάθε στοιχείο το λόγο του αριθμού των πυρήνων που έχουν διασπαστεί τη χρονική στιγμή $t = 8\text{h}$ προς τον αρχικό αριθμό των πυρήνων για $t_0 = 0$.

Μονάδες 7

- γ. τον αριθμό των πυρήνων κάθε στοιχείου που υπήρχαν στο ραδιενεργό υλικό τη χρονική στιγμή $t_0 = 0$.

Μονάδες 7

- δ. τη συνολική ενεργότητα του υλικού τη χρονική στιγμή $t = 8h$.

Μονάδες 7

Δίνεται: $\frac{\ln 2}{3600} = 2 \cdot 10^{-4}$.

ΟΛΗΓΙΕΣ (για τους εξεταζομένους)

1. Στο τετράδιο να γράψετε μόνο τα προκαταρκτικά (ημερομηνία, εξεταζόμενο μάθημα). Να μην αντιγράψετε τα θέματα στο τετράδιο. Τα σχήματα που θα χρησιμοποιήσετε στο τετράδιο μπορούν να γίνουν και με μολύβι.
2. Να γράψετε το ονοματεπώνυμό σας στο πάνω μέρος των φωτοαντιγράφων, αμέσως μόλις σας παραδοθούν. Καμιά άλλη σημείωση δεν επιτρέπεται να γράψετε.

Κατά την αποχώρησή σας να παραδώσετε μαζί με το τετράδιο και τα φωτοαντίγραφα, τα οποία και θα καταστραφούν μετά το πέρας της εξέτασης.

3. Να απαντήσετε στο τετράδιό σας σε όλα τα θέματα.
4. Κάθε λύση επιστημονικά τεκμηριωμένη είναι αποδεκτή.
5. Διάρκεια εξέτασης: τρεις (3) ώρες μετά τη διανομή των φωτοαντιγράφων.
6. Χρόνος δυνατής αποχώρησης: 10:00.

ΚΑΛΗ ΕΠΙΤΥΧΙΑ

ΤΕΛΟΣ ΜΗΝΥΜΑΤΟΣ

**ΑΠΟΛΥΤΗΡΙΕΣ ΕΞΕΤΑΣΕΙΣ Γ' ΤΑΞΗΣ
ΗΜΕΡΗΣΙΟΥ ΕΝΙΑΙΟΥ ΛΥΚΕΙΟΥ
ΠΕΜΠΤΗ 2 ΙΟΥΝΙΟΥ 2005
ΕΞΕΤΑΖΟΜΕΝΟ ΜΑΘΗΜΑ: ΦΥΣΙΚΗ ΓΕΝΙΚΗΣ ΠΑΙΔΕΙΑΣ
ΣΥΝΟΛΟ ΣΕΛΙΔΩΝ: ΕΠΤΑ (7)**

ΘΕΜΑ 1^ο

Στις ερωτήσεις 1-4 να γράψετε στο τετράδιό σας τον αριθμό της ερώτησης και δίπλα το γράμμα, που αντιστοιχεί στη σωστή απάντηση.

1. Το έτος 2005 ορίστηκε ως έτος Φυσικής και ιδιαίτερα ως έτος Einstein (Αϊνστάιν). Το 1905 ο Einstein χρησιμοποιώντας τη σωματιδιακή φύση του φωτός ερμήνευσε το φωτοηλεκτρικό φαινόμενο. Σήμερα πιστεύουμε ότι το φως συμπεριφέρεται:
 - α. ως κύμα.
 - β. ως σωματίδιο.
 - γ. ως κύμα και ως σωματίδιο.
 - δ. ως επιταχυνόμενη μάζα.

Μονάδες 5

2. Η σταθερά διάσπασης λ :
 - α. είναι μεγάλη για ραδιενεργούς πυρήνες που διασπώνται γρήγορα.
 - β. εξαρτάται από τον αρχικό αριθμό των πυρήνων.
 - γ. είναι ίδια για όλους τους ραδιενεργούς πυρήνες.
 - δ. μεταβάλλεται με το χρόνο.

Μονάδες 5

3. Όταν οι ακτίνες X προσπίπτουν σε μια μεταλλική πλάκα, η απορρόφηση που υφίστανται:
 - α. αυξάνεται, όταν μειώνεται το μήκος κύματός τους.

- β. είναι ανεξάρτητη από το πάχος της πλάκας.
- γ. αυξάνεται, όταν μειώνεται ο ατομικός αριθμός των ατόμων του υλικού του μετάλλου της πλάκας.
- δ. αυξάνεται, όταν μειώνεται η συχνότητα της ακτινοβολίας.

Μονάδες 5

4. Το ηλεκτρόνιο που εκπέμπεται από τον πυρήνα κατά τη ραδιενεργό διάσπαση β^- :
- α. προϋπήρχε στον πυρήνα και έλκοντας τα πρωτόνια του συνέβαλε στη σταθερότητα του πυρήνα.
 - β. δεν υπήρχε στον πυρήνα, αλλά η εκπομπή του οφείλεται στη διάσπαση ενός νετρονίου του πυρήνα.
 - γ. συνοδεύεται από την εκπομπή αντινετρίνου ($\bar{\nu}_e$) , για να διατηρηθεί το φορτίο στην πυρηνική αντίδραση.
 - δ. προκαλεί μείωση του αριθμού των πρωτονίων στο θυγατρικό πυρήνα κατά 1.

Μονάδες 5

Στην παρακάτω ερώτηση 5 να γράψετε στο τετράδιό σας το γράμμα κάθε πρότασης και δίπλα σε κάθε γράμμα τη λέξη **Σωστό** για τη σωστή πρόταση και τη λέξη **Λάθος** για τη λανθασμένη.


5. α. Το ατομικό πρότυπο του Rutherford (Ράδερχορντ) αδυνατούσε να εξηγήσει τα γραμμικά φάσματα των αερίων.
- β. Το λευκό φως, όταν διαδίδεται στο κενό, εμφανίζει το φαινόμενο του διασκεδασμού.
- γ. Στις αντιδράσεις πυρηνικής σύντηξης η μάζα ηρεμίας του τελικού πυρήνα είναι μικρότερη από το άθροισμα των μαζών των αρχικών πυρήνων.

- δ. Τα φωτόνια γ , όταν αλληλεπιδρούν με την ύλη, είτε χάνουν όλη τους την ενέργεια με μια αλληλεπίδραση κατά την οποία απορροφώνται, είτε περνούν ανεπηρέαστα.
- ε. Στο εσωτερικό του γυάλινου περιβλήματος των λαμπτήρων φθορισμού υπάρχει ποσότητα ατμών ιωδίου, ώστε τα εξαχνούμενα άτομα βολφραμίου να επανατοποθετούνται στο νήμα.

Μονάδες 5

ΘΕΜΑ 2^ο

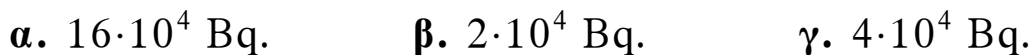
1. Να μεταφέρετε στο τετράδιό σας συμπληρωμένες τις παρακάτω αντιδράσεις:



Μονάδες 4

Για τις παρακάτω ερωτήσεις 2-4 να γράψετε στο τετράδιό σας τον αριθμό της ερώτησης και δίπλα το γράμμα που αντιστοιχεί στη σωστή απάντηση.

2. Αν ένα δείγμα ραδιενεργού υλικού έχει κάποια χρονική στιγμή ενεργότητα $8 \cdot 10^4$ Bq και το ραδιενεργό υλικό έχει χρόνο υποδιπλασιασμού 60 ημέρες, τότε μετά από 120 ημέρες η ενεργότητα του δείγματος θα έχει γίνει:



Μονάδες 2

Να αιτιολογήσετε την απάντησή σας.

Μονάδες 4

3. Στο ατομικό πρότυπο του Bohr (Μπορ) για το άτομο του υδρογόνου, αν v_1 είναι η ταχύτητα του ηλεκτρονίου στην επιτρεπόμενη τροχιά με κβαντικό αριθμό $n = 1$ και v_4

είναι η ταχύτητα του ηλεκτρονίου στην επιτρεπόμενη τροχιά με κβαντικό αριθμό $n = 4$, τότε ισχύει:

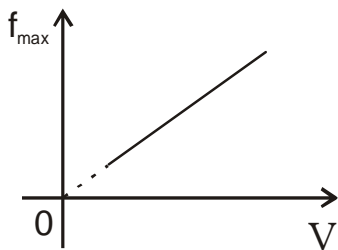
α. $v_4 = 4v_1$. β. $v_4 = \frac{v_1}{16}$. γ. $v_1 = 4v_4$.

Μονάδες 2

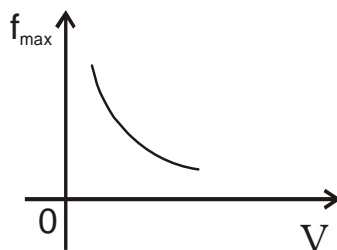
Να αιτιολογήσετε την απάντησή σας.

Μονάδες 6

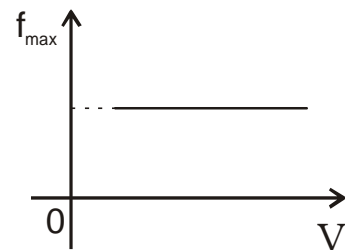
4. Σε συσκευή παραγωγής ακτίνων X μεταξύ καθόδου και ανόδου εφαρμόζουμε τάση V . Υποθέτουμε ότι τα ηλεκτρόνια εξέρχονται από τη θερμαινόμενη κάθοδο με αμελητέα ταχύτητα. Η μέγιστη συχνότητα f_{\max} του συνεχούς φάσματος των ακτίνων X μεταβάλλεται με την τάση V , όπως απεικονίζεται:



(1)



(2)



(3)

- α. στο διάγραμμα 1.
β. στο διάγραμμα 2.
γ. στο διάγραμμα 3.

Μονάδες 2

Να αιτιολογήσετε την απάντησή σας.

Μονάδες 5

ΘΕΜΑ 3°

Δέσμη φωτός, που διαδίδεται στο κενό, αποτελείται από δύο μονοχρωματικές ακτινοβολίες: την ιώδη με μήκος κύματος $\lambda_{\text{οι}} = 400 \text{ nm}$ και την ερυθρά με μήκος κύματος $\lambda_{\text{οε}} = 700 \text{ nm}$.

Η δέσμη φωτός εισέρχεται σε γυαλί. Το γυαλί εμφανίζει για την ιώδη ακτινοβολία δείκτη διάθλασης $n_{\text{ι}}$ και για την ερυθρά ακτινοβολία δείκτη διάθλασης $n_{\text{ε}}$ με λόγο $\frac{n_{\text{ι}}}{n_{\text{ε}}} = \frac{8}{7}$.

Το μήκος κύματος της ιώδους ακτινοβολίας στο γυαλί είναι 200 nm .

α. Να υπολογιστεί ο δείκτης διάθλασης του γυαλιού για την ιώδη ακτινοβολία.

Μονάδες 6

β. Να δειχθεί ότι το μήκος κύματος της ερυθράς ακτινοβολίας στο γυαλί είναι ίσο με το μήκος κύματος της ιώδους ακτινοβολίας στο κενό.

Μονάδες 8

γ. Παρατηρείται αλλαγή του χρώματος της ερυθράς ακτινοβολίας κατά τη διάδοσή της μέσα στο γυαλί; Να αιτιολογήσετε την απάντησή σας.

Μονάδες 3

δ. Έστω $N_{\text{ι}}$ και $N_{\text{ε}}$ οι αριθμοί των φωτονίων της ιώδους και της ερυθράς ακτινοβολίας αντίστοιχα, που προσπίπτουν στο γυαλί στη μονάδα του χρόνου. Να βρεθεί ο λόγος $\frac{N_{\text{ι}}}{N_{\text{ε}}}$, ώστε ο ρυθμός με τον οποίο

προσπίπτει η ενέργεια της ιώδους ακτινοβολίας στο γυαλί να είναι ίσος με το ρυθμό, με τον οποίο προσπίπτει η ενέργεια της ερυθράς ακτινοβολίας στο γυαλί.

Μονάδες 8

ΘΕΜΑ 4^ο

1000 άτομα υδρογόνου βρίσκονται όλα στην ίδια διεγερμένη ενεργειακή στάθμη. Για να απομακρυνθεί το ηλεκτρόνιο του κάθε διεγερμένου ατόμου σε περιοχή εκτός του ηλεκτρικού πεδίου του πυρήνα, η ελάχιστη ενέργεια που απαιτείται είναι 1,51 eV.

α. Να βρεθεί ο κβαντικός αριθμός n της διεγερμένης κατάστασης στην οποία βρίσκονται τα άτομα του υδρογόνου.

Μονάδες 6

β. Να σχεδιάσετε στο διάγραμμα ενεργειακών σταθμών όλες τις δυνατές αποδιεγέρσεις από τη διεγερμένη κατάσταση.

Μονάδες 4

γ. Από πόσες γραμμές θα αποτελείται το φάσμα εκπομπής που λαμβάνεται κατά την αποδιέγερση των 1000 ατόμων υδρογόνου;

Μονάδες 3

δ. Κατά την πλήρη αποδιέγερση και των 1000 ατόμων υδρογόνου εκπέμπονται συνολικά 1250 φωτόνια.

Με κριτήριο την ενέργεια των εκπεμπομένων φωτονίων τα κατατάσσουμε σε κατηγορίες. Πόσα φωτόνια αντιστοιχούν σε κάθε κατηγορία;

Μονάδες 8

ε. Πόση είναι η συνολική ενέργεια των εκπεμπομένων φωτονίων;

Μονάδες 4

Δίνεται η ενέργεια του ατόμου του υδρογόνου στη θεμελιώδη κατάσταση $E_1 = - 13,6$ eV.

**ΕΠΑΝΑΛΗΠΤΙΚΕΣ ΑΠΟΛΥΤΗΡΙΕΣ ΕΞΕΤΑΣΕΙΣ
Γ΄ ΤΑΞΗΣ ΗΜΕΡΗΣΙΟΥ ΕΝΙΑΙΟΥ ΛΥΚΕΙΟΥ
ΤΡΙΤΗ 5 ΙΟΥΛΙΟΥ 2005
ΕΞΕΤΑΖΟΜΕΝΟ ΜΑΘΗΜΑ: ΦΥΣΙΚΗ ΓΕΝΙΚΗΣ ΠΑΙΔΕΙΑΣ
ΣΥΝΟΛΟ ΣΕΛΙΔΩΝ: ΕΠΤΑ (7)**

ΘΕΜΑ 1^ο

Στις ερωτήσεις 1-4 να γράψετε στο τετράδιό σας τον αριθμό της ερώτησης και δίπλα το γράμμα, που αντιστοιχεί στη σωστή απάντηση.

1. Μονοχρωματική ακτινοβολία, η οποία διέρχεται από το οπτικά αραιότερο μέσο (1) προς το οπτικά πυκνότερο μέσο (2), προσπίπτει υπό τυχαία γωνία στη διαχωριστική επιφάνεια των δύο οπτικών μέσων. Τότε:
 - α. η ταχύτητα της ακτινοβολίας είναι μεγαλύτερη στο μέσο (2) σε σχέση με το μέσο (1).
 - β. η γωνία διάθλασης είναι μεγαλύτερη από τη γωνία πρόσπτωσης.
 - γ. η ενέργεια κάθε φωτονίου της ακτινοβολίας είναι μεγαλύτερη στο μέσο (1) σε σχέση με το μέσο (2).
 - δ. το μήκος κύματος της ακτινοβολίας είναι μικρότερο στο μέσο (2) σε σχέση με το μέσο (1).

Μονάδες 5

2. Η ακτινοβολία α, που εκπέμπεται από ένα ραδιενεργό πυρήνα:
 - α. αποτελείται από αρνητικά φορτισμένα σωματίδια.
 - β. εκτρέπεται από μαγνητικό πεδίο.
 - γ. διαπερνά φύλλα μολύβδου αρκετών εκατοστών.
 - δ. συνδέεται με αύξηση της μάζας του πυρήνα που διασπάται.

Μονάδες 5

3. Κατά τη λειτουργία συσκευής παραγωγής ακτίνων X:
- α. όσο μεγαλύτερη είναι η θερμοκρασία της καθόδου, τόσο μεγαλύτερος είναι ο αριθμός των ηλεκτρονίων που εκπέμπονται στη μονάδα του χρόνου.
 - β. όταν πλησιάσουμε μια φθορίζουσα ουσία, αυτή δεν ακτινοβολεί φως.
 - γ. τα παραγόμενα από την κάθοδο ηλεκτρόνια δεν είναι απαραίτητο να επιταχυνθούν από μεγάλη διαφορά δυναμικού.
 - δ. το υλικό της ανόδου καθορίζει το ελάχιστο μήκος κύματος του συνεχούς φάσματος των ακτίνων X.

Μονάδες 5

4. Για να συμβεί σύντηξη μεταξύ δύο πυρήνων πρέπει:
- α. να υπερνικηθεί η ισχυρή πυρηνική δύναμη και να επικρατήσει η ηλεκτρική άπωση.
 - β. η κινητική τους ενέργεια να είναι της τάξης μερικών eV.
 - γ. να επικρατεί στο περιβάλλον τους θερμοκρασία της τάξης των 10^8K .
 - δ. οι πυρήνες να έχουν μεγάλο μαζικό αριθμό.

Μονάδες 5

5. *Να γράψετε στο τετράδιό σας το γράμμα της ερώτησης και δίπλα τη λέξη που συμπληρώνει σωστά την αντίστοιχη πρόταση.*
- α. Η εξάρτηση της ταχύτητας του φωτός και του δείκτη διάθλασης από το μήκος κύματος ονομάζεται
 - β. Η μετάβαση ενός ηλεκτρονίου του ατόμου από μια τροχιά χαμηλής ενέργειας σε άλλη υψηλότερης ενέργειας ονομάζεται του ατόμου.

- γ. Η διαδικασία κατά την οποία ένας πυρήνας μετατρέπεται σε έναν άλλο διαφορετικού στοιχείου ονομάζεται
- δ. Τα φωτόνια που εκπέμπονται κατά τις αποδιεγέρσεις πυρήνων ονομάζονται ακτίνες ή σωματίδια γ και έχουν πολύ ενέργειες σε σχέση με τις ενέργειες των φωτονίων του ορατού φωτός.
- ε. Στους λαμπτήρες φθορισμού το φως που εκπέμπουν οι ατμοί υδραργύρου, επανεκπέμπεται από τη φθορίζουσα ουσία υπό μορφή ορατού φωτός.

Μονάδες 5

ΘΕΜΑ 2^ο

Για τις παρακάτω ερωτήσεις 1-4 να γράψετε στο τετράδιό σας τον αριθμό της ερώτησης και δίπλα το γράμμα που αντιστοιχεί στη σωστή απάντηση.

1. Μονοχρωματική ακτινοβολία διαδίδεται στο κενό σε απόσταση κατά 50% μεγαλύτερη από την απόσταση που διαδίδεται σε διαφανές οπτικό μέσο στον ίδιο χρόνο. Ο δείκτης διάθλασης του οπτικού μέσου για την ακτινοβολία αυτή είναι:

α. $3/2$

β. 3

γ. 2

Μονάδες 2

Να αιτιολογήσετε την απάντησή σας.

Μονάδες 4

2. Σε συσκευή παραγωγής ακτίνων X, η ισχύς της ηλεκτρονικής δέσμης είναι P και το ελάχιστο μήκος κύματος των εκπεμπόμενων φωτονίων του συνεχούς φάσματος είναι λ_{\min} . Αν υποδιπλασιάσουμε την ισχύ της ηλεκτρονικής δέσμης διατηρώντας σταθερή την ένταση του ρεύματος, τότε για το νέο ελάχιστο μήκος κύματος λ'_{\min} θα ισχύει:

α. $\lambda'_{\min} = \lambda_{\min} \cdot$

β. $\lambda'_{\min} = 2\lambda_{\min} \cdot$

γ. $\lambda'_{\min} = \frac{\lambda_{\min}}{2} \cdot$

Μονάδες 2

Να αιτιολογήσετε την απάντησή σας.

Μονάδες 4

3. Ο χρόνος υποδιπλασιασμού ενός ραδιενεργού υλικού είναι 20 min. Τη χρονική στιγμή $t=0$, η ενεργότητα ενός δείγματος του υλικού είναι 32 φορές μεγαλύτερη από εκείνη που επιτρέπει την ασφαλή χρήση του δείγματος από τον άνθρωπο. Ο ελάχιστος χρόνος που πρέπει να περάσει για να είναι ασφαλής η χρήση του δείγματος είναι:

α. 32 min.

β. 64 min.

γ. 100 min.

Μονάδες 2

Να αιτιολογήσετε την απάντησή σας.

Μονάδες 5

4. Ο πυρήνας X αποτελείται από 8 πρωτόνια και 8 νετρόνια και έχει ενέργεια σύνδεσης 127 MeV. Άλλος πυρήνας Y αποτελείται από 26 πρωτόνια και 30 νετρόνια και έχει ενέργεια σύνδεσης 492 MeV.

α. Ο πυρήνας X είναι σταθερότερος.

β. Ο πυρήνας Y είναι σταθερότερος.

γ. Οι δύο πυρήνες είναι το ίδιο σταθεροί.

Μονάδες 2

Να αιτιολογήσετε την απάντησή σας.

Μονάδες 4

ΘΕΜΑ 3^ο

Οι ραδιενεργές ακτινοβολίες εφαρμόζονται ευρέως στην ιατρική. Ως πηγές χρησιμοποιούνται τεχνητώς παραγόμενα ισότοπα. Ένα τέτοιο παράδειγμα είναι το ισότοπο του κοβαλτίου ${}_{27}^{60}\text{Co}$. Το ισότοπο κοβάλτιο ${}_{27}^{60}\text{Co}$ διασπάται με εκπομπή σωματιδίου β^- προς νικέλιο Ni, το οποίο βρίσκεται σε μια διεγερμένη ενεργειακή στάθμη. Ο πυρήνας του νικελίου Ni αποδιεγείρεται με εκπομπή ακτινοβολίας γ .

- α. Να γράψετε τις δύο αντιδράσεις που παριστάνουν τις παραπάνω διασπάσεις.

Μονάδες 6

- β. Να υπολογίσετε τη σταθερά διάσπασης του κοβαλτίου ${}_{27}^{60}\text{Co}$ στο (S.I.), αν ο χρόνος υποδιπλασιασμού του είναι 5,5 έτη.

Μονάδες 5

- γ. Κάποια χρονική στιγμή t , η ενεργότητα ενός δείγματος κοβαλτίου ${}_{27}^{60}\text{Co}$ είναι $4 \cdot 10^{13}$ Bq. Να υπολογίσετε τον αριθμό των πυρήνων κοβαλτίου ${}_{27}^{60}\text{Co}$ τη χρονική στιγμή t .

Μονάδες 6

- δ. Να υπολογίσετε τον αριθμό των ηλεκτρονίων που θα εκπέμψει το δείγμα, σε χρονικό διάστημα 11 ετών μετά τη χρονική στιγμή t .

Μονάδες 8

Δίνονται: $1 \text{ έτος} = 3,15 \cdot 10^7 \text{ s}$ και $\ln 2 = 0,693$

ΘΕΜΑ 4°

Σωματίδιο με κινητική ενέργεια K_1 συγκρούεται με ακίνητο άτομο υδρογόνου, το οποίο βρίσκεται στη θεμελιώδη κατάσταση. Το άτομο του υδρογόνου, κατά την κρούση, απορροφά ενέργεια και μεταβαίνει σε ενεργειακή κατάσταση στην οποία το μέτρο της ελκτικής δύναμης μεταξύ πυρήνα και ηλεκτρονίου γίνεται 81 φορές μικρότερο από το μέτρο της αντίστοιχης δύναμης στη θεμελιώδη κατάσταση. Το σωματίδιο μετά την κρούση απομακρύνεται με κινητική ενέργεια K_2 , για την οποία ισχύει $K_2 = \frac{K_1}{4}$.

Θεωρούμε ότι το άτομο του υδρογόνου παραμένει ακίνητο κατά τη διάρκεια της αλληλεπίδρασής του με το σωματίδιο.

Να υπολογίσετε:

α. Τον κύριο κβαντικό αριθμό n της ενεργειακής κατάστασης στην οποία διεγέρθηκε το άτομο του υδρογόνου.

Μονάδες 6

β. Την κινητική ενέργεια K_1 του σωματιδίου σε eV.

Μονάδες 6

γ. Τη μεταβολή της δυναμικής ενέργειας του ηλεκτρονίου στο άτομο του υδρογόνου κατά τη διεγέρσή του.

Μονάδες 7

δ. Το άτομο του υδρογόνου, καθώς αποδιεγείρεται, εκπέμπει δύο φωτόνια. Να αιτιολογήσετε αν το φωτόνιο με το μεγαλύτερο μήκος κύματος μπορεί ή όχι να απορροφηθεί από άλλο άτομο υδρογόνου, που βρίσκεται στη θεμελιώδη κατάσταση.

Μονάδες 6

Δίνεται η ενέργεια του ατόμου του υδρογόνου στη θεμελιώδη κατάσταση $E_1 = -13,6$ eV.

ΑΡΧΗ 1ΗΣ ΣΕΛΙΔΑΣ
ΑΠΟΛΥΤΗΡΙΕΣ ΕΞΕΤΑΣΕΙΣ Γ΄ ΤΑΞΗΣ
ΗΜΕΡΗΣΙΟΥ ΕΝΙΑΙΟΥ ΛΥΚΕΙΟΥ
ΠΕΜΠΤΗ 25 ΜΑΙΟΥ 2006
ΕΞΕΤΑΖΟΜΕΝΟ ΜΑΘΗΜΑ: ΦΥΣΙΚΗ ΓΕΝΙΚΗΣ ΠΑΙΔΕΙΑΣ
ΣΥΝΟΛΟ ΣΕΛΙΔΩΝ: ΕΞΙ (6)

ΘΕΜΑ 1^ο

Στις ερωτήσεις 1-4 να γράψετε στο τετράδιό σας τον αριθμό της ερώτησης και δίπλα το γράμμα, που αντιστοιχεί στη σωστή απάντηση.

1. Σύμφωνα με την ηλεκτρομαγνητική θεωρία του Maxwell:
 - α. τα διανύσματα της έντασης E του ηλεκτρικού πεδίου και της έντασης B του μαγνητικού πεδίου είναι παράλληλα μεταξύ τους.
 - β. το φως είναι διαμήκη ηλεκτρομαγνητικά κύματα.
 - γ. ερμηνεύονται όλα τα φαινόμενα που έχουν σχέση με το φως.
 - δ. οι εντάσεις του ηλεκτρικού και του μαγνητικού πεδίου έχουν την ίδια φάση.

Μονάδες 5

2. Το γραμμικό φάσμα εκπομπής ενός αερίου:
 - α. δεν δίνει πληροφορίες για το αέριο στο οποίο αντιστοιχεί.
 - β. αποτελείται από μία χρωματιστή ταινία.
 - γ. αποτελείται από ορισμένες φασματικές γραμμές που είναι χαρακτηριστικές του αερίου.
 - δ. είναι ίδιο με το γραμμικό φάσμα εκπομπής ενός άλλου αερίου.

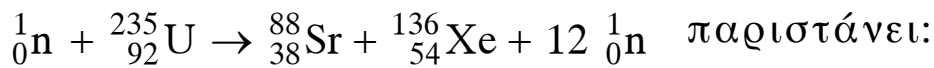
Μονάδες 5

ΑΡΧΗ 2ΗΣ ΣΕΛΙΔΑΣ

3. Η ισχυρή πυρηνική δύναμη μεταξύ των νουκλεονίων:
- α. κάνει διάκριση μεταξύ πρωτονίων και νετρονίων.
 - β. είναι μικρότερη από την ηλεκτρική άπωση μεταξύ των πρωτονίων.
 - γ. δρα μόνο μεταξύ γειτονικών νουκλεονίων και μόνο στις πολύ κοντινές αποστάσεις.
 - δ. επηρεάζει άμεσα τα μακροσκοπικά φαινόμενα.

Μονάδες 5

4. Η πυρηνική αντίδραση



- α. διάσπαση γ.
- β. σχάση.
- γ. σύντηξη.
- δ. διάσπαση β^- .

Μονάδες 5

*Στην παρακάτω ερώτηση 5 να γράψετε στο τετράδιό σας το γράμμα κάθε πρότασης και δίπλα σε κάθε γράμμα τη λέξη **Σωστό** για τη σωστή πρόταση και τη λέξη **Λάθος** για τη λανθασμένη.*

5. α. Η θεωρία των κβάντα αναιρεί την κυματική φύση του φωτός.
- β. Το φάσμα απορρόφησης ενός αερίου παρουσιάζει σκοτεινές γραμμές στη θέση των φωτεινών γραμμών του φάσματος εκπομπής.
- γ. Σύμφωνα με το ατομικό πρότυπο του Bohr, όταν το ηλεκτρόνιο κινείται σε ορισμένη επιτρεπόμενη τροχιά εκπέμπει ακτινοβολία.

ΑΡΧΗ 3ΗΣ ΣΕΛΙΔΑΣ

- δ. Τα σωματίδια γ έχουν μεγαλύτερη διεισδυτική ικανότητα από τα σωματίδια β .
- ε. Η ύπαρξη κενού στους λαμπτήρες πυρακτώσεως θα μείωνε το χρόνο ζωής τους.

Μονάδες 5

ΘΕΜΑ 2^ο

Για τις παρακάτω ερωτήσεις 1-4 να γράψετε στο τετράδιό σας τον αριθμό της ερώτησης και δίπλα το γράμμα που αντιστοιχεί στη σωστή απάντηση.

1. Ηλεκτρομαγνητική ακτινοβολία με συχνότητα $5 \cdot 10^{14} \text{ Hz}$ διαδίδεται στο κενό με ταχύτητα $3 \cdot 10^8 \text{ m/s}$.
Δεδομένου ότι $1 \text{ m} = 10^9 \text{ nm}$, η ακτινοβολία
- α. είναι ορατή.
β. είναι υπεριώδης.
γ. είναι υπέρυθρη.

Μονάδες 2

Να αιτιολογήσετε την απάντησή σας.

Μονάδες 4

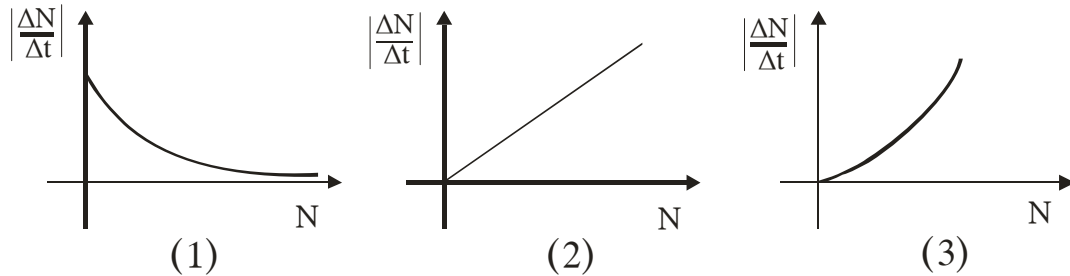
2. Άτομο υδρογόνου βρίσκεται σε μία διεγερμένη κατάσταση. Η δυναμική ενέργεια του ηλεκτρονίου U και η ολική του ενέργεια E συνδέονται με τη σχέση
- α. $U = E$ β. $U = 2E$ γ. $U = -E$

Μονάδες 2

Να αιτιολογήσετε την απάντησή σας.

Μονάδες 5

3. Η ενεργότητα $\left| \frac{\Delta N}{\Delta t} \right|$ ενός δείγματος ραδιενεργού στοιχείου μεταβάλλεται με τον αριθμό των αδιάσπαστων πυρήνων N , όπως απεικονίζεται στο διάγραμμα



- α. (1).
β. (2).
γ. (3).

Μονάδες 2

Να αιτιολογήσετε την απάντησή σας.

Μονάδες 4

4. Οι αντιδράσεις πυρηνικής σύντηξης πραγματοποιούνται σε
- α. πολύ χαμηλές θερμοκρασίες.
β. θερμοκρασία περιβάλλοντος.
γ. πολύ υψηλές θερμοκρασίες.

Μονάδες 2

Να αιτιολογήσετε την απάντησή σας.

Μονάδες 4

ΘΕΜΑ 3°

Σε συσκευή παραγωγής ακτίνων X για τη λήψη ακτινογραφιών, η ηλεκτρονική δέσμη έχει ισχύ 4000W. Ο χρόνος λήψης μιας ακτινογραφίας είναι 0,165 s.

Όταν ένα ηλεκτρόνιο με την πρώτη κρούση του στην άνοδο μετατρέπεται σε ενέργεια ενός φωτονίου το 20% της κινητικής του ενέργειας, τότε η συχνότητα του φωτονίου που εκπέμπεται είναι $4 \cdot 10^{18}$ Hz. Θεωρούμε ότι στη συσκευή παραγωγής ακτίνων X τα ηλεκτρόνια ξεκινούν από την κάθοδο χωρίς αρχική ταχύτητα και ότι η θερμοκρασία της καθόδου παραμένει σταθερή.

- α. Να υπολογιστεί η τάση που εφαρμόζεται στη συσκευή μεταξύ ανόδου και καθόδου.

Μονάδες 8

- β. Να βρεθεί το ελάχιστο μήκος κύματος των φωτονίων που εκπέμπονται.

Μονάδες 8

- γ. Ποιος είναι ο αριθμός των ηλεκτρονίων που φθάνουν στην άνοδο στο χρόνο λήψης μιας ακτινογραφίας.

Μονάδες 9

Δίνονται: η απόλυτη τιμή του φορτίου του ηλεκτρονίου $1,6 \cdot 10^{-19}$ C, η ταχύτητα του φωτός στο κενό $c_0 = 3 \cdot 10^8$ m/s και η σταθερά του Planck $h = 6,6 \cdot 10^{-34}$ J·s.

ΘΕΜΑ 4°

Τη χρονική στιγμή μηδέν δείγμα $2 \cdot 10^{21}$ ραδιενεργών πυρήνων X με ατομικό αριθμό Z και μαζικό αριθμό 222 διασπάται με εκπομπή σωματίου α προς τον θυγατρικό πυρήνα Ψ. Ο χρόνος υποδιπλασιασμού του ραδιενεργού πυρήνα X είναι ίσος με $3,45 \cdot 10^5$ s.

- α. Να γραφεί η αντίδραση της ραδιενεργού διάσπασης α.

Μονάδες 6

ΑΡΧΗ 6ΗΣ ΣΕΛΙΔΑΣ

β. Να υπολογιστεί η σταθερά διάσπασης λ .

Μονάδες 6

γ. Να βρεθεί η ενεργότητα του δείγματος τη χρονική στιγμή $13,8 \cdot 10^5 \text{s}$.

Μονάδες 6

δ. Αν θεωρήσουμε ότι οι ενέργειες σύνδεσης ανά νουκλεόνιο είναι $7,9 \text{ MeV}$ για τον μητρικό πυρήνα X , 8 MeV για τον θυγατρικό πυρήνα Ψ και $7,5 \text{ MeV}$ για το σωματίο α , να υπολογιστεί η ενέργεια που αποδεσμεύεται ανά σχάση.

Μονάδες 7

Δίνεται $\ln 2 = 0,69$.

ΟΛΗΓΙΕΣ (για τους εξεταζομένους)

1. Στο τετράδιο να γράψετε μόνο τα προκαταρκτικά (ημερομηνία, εξεταζόμενο μάθημα). **Να μην αντιγράψετε** τα θέματα στο τετράδιο. Τα σχήματα που θα χρησιμοποιήσετε στο τετράδιο μπορείτε να τα σχεδιάσετε και με μολύβι.
2. Να γράψετε το ονοματεπώνυμό σας στο πάνω μέρος των φωτοαντιγράφων, αμέσως μόλις σας παραδοθούν. **Καμιά άλλη σημείωση δεν επιτρέπεται να γράψετε.** Κατά την αποχώρησή σας να παραδώσετε μαζί με το τετράδιο και τα φωτοαντίγραφα.
3. Να απαντήσετε **στο τετράδιό σας σε όλα** τα θέματα.
4. Κάθε απάντηση επιστημονικά τεκμηριωμένη είναι αποδεκτή.
5. Διάρκεια εξέτασης: τρεις (3) ώρες μετά τη διανομή των φωτοαντιγράφων.
6. Χρόνος δυνατής αποχώρησης: μετά τη 10.30' πρωινή.

ΚΑΛΗ ΕΠΙΤΥΧΙΑ

ΤΕΛΟΣ ΜΗΝΥΜΑΤΟΣ

ΤΕΛΟΣ 6ΗΣ ΣΕΛΙΔΑΣ

**ΕΠΑΝΑΛΗΠΤΙΚΕΣ ΑΠΟΛΥΤΗΡΙΕΣ ΕΞΕΤΑΣΕΙΣ
ΗΜΕΡΗΣΙΟΥ ΕΝΙΑΙΟΥ ΛΥΚΕΙΟΥ
ΔΕΥΤΕΡΑ 3 ΙΟΥΛΙΟΥ 2006
ΕΞΕΤΑΖΟΜΕΝΟ ΜΑΘΗΜΑ: ΦΥΣΙΚΗ ΓΕΝΙΚΗΣ ΠΑΙΔΕΙΑΣ
ΣΥΝΟΛΟ ΣΕΛΙΔΩΝ: ΕΠΤΑ (7)**

ΘΕΜΑ 1ο

Στις ερωτήσεις 1-4 να γράψετε στο τετράδιό σας τον αριθμό της ερώτησης και δίπλα το γράμμα, που αντιστοιχεί στη σωστή απάντηση.

1. Η κβαντική θεωρία του Planck
 - α. δεν μπορεί να ερμηνεύσει το φωτοηλεκτρικό φαινόμενο.
 - β. ερμηνεύει την αλληλεπίδραση της φωτεινής ακτινοβολίας με την ύλη.
 - γ. δέχεται ότι το φως εκπέμπεται και απορροφάται από τα άτομα της ύλης με συνεχή τρόπο.
 - δ. αναιρεί την κυματική φύση του φωτός.

Μονάδες 5

2. Κατά την αποδιέγερση ενός ατόμου υδρογόνου από μία ενεργειακή κατάσταση σε μία άλλη έχουμε
 - α. αύξηση της ενέργειας του ατόμου.
 - β. ελάττωση της ακτίνας της τροχιάς του ηλεκτρονίου.
 - γ. απορρόφηση φωτονίου.
 - δ. ιονισμό του ατόμου.

Μονάδες 5

3. Η υπεριώδης ακτινοβολία
 - α. με πολύ μικρό μήκος κύματος δεν προκαλεί βλάβες στα κύτταρα του δέρματος.
 - β. δεν προκαλεί φθορισμό.

ΑΡΧΗ 2ΗΣ ΣΕΛΙΔΑΣ

- γ. συμμετέχει στη μετατροπή του οξυγόνου της ατμόσφαιρας σε όζον.
- δ. δεν προκαλεί αμαύρωση της φωτογραφικής πλάκας.

Μονάδες 5

4. Η μάζα του πυρήνα ${}_{28}^{62}\text{Ni}$ είναι

- α. ίση με $28u$.
- β. ίση με το άθροισμα $28m_p + 34m_n$.
- γ. ίση με $62g$.
- δ. μικρότερη από το άθροισμα $28m_p + 34m_n$.

Όπου m_p και m_n οι μάζες του πρωτονίου και του νετρονίου αντίστοιχα σε ελεύθερη κατάσταση.

Μονάδες 5

Στην παρακάτω ερώτηση **5** να γράψετε στο τετράδιό σας το γράμμα κάθε πρότασης και δίπλα σε κάθε γράμμα τη λέξη **Σωστό** για τη σωστή πρόταση και τη λέξη **Λάθος** για τη λανθασμένη.

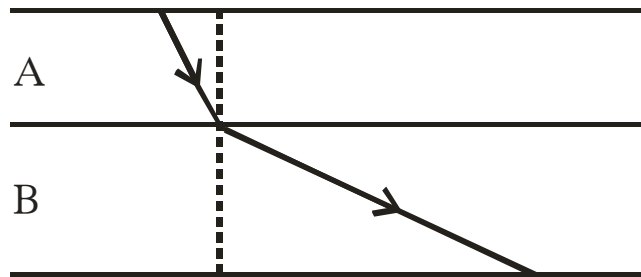
- 5. α. Η αντίληψη ενός χρώματος είναι διαφορετική σε διαφορετικά διαφανή μέσα διάδοσης.
- β. Η υπέρυθη ακτινοβολία διέρχεται μέσα από την ομίχλη και τα σύννεφα.
- γ. Σύμφωνα με το μοντέλο του Rutherford, τα άτομα θα έπρεπε να εκπέμπουν γραμμικό φάσμα.
- δ. Η μονάδα ατομικής μάζας ($1u$) ορίζεται ως το $1/12$ της μάζας του ατόμου ${}_{6}^{12}\text{C}$.
- ε. Οι λαμπτήρες αλογόνου έχουν απόδοση φωτός διπλάσια των συνηθισμένων λαμπτήρων πυρακτώσεως.

Μονάδες 5

ΘΕΜΑ 2ο

Για τις παρακάτω ερωτήσεις 1-4 να γράψετε στο τετράδιό σας τον αριθμό της ερώτησης και δίπλα το γράμμα που αντιστοιχεί στη σωστή απάντηση.

1. Μονοχρωματική ακτίνα φωτός εισέρχεται από το διαφανές οπτικό μέσο Α στο διαφανές οπτικό μέσο Β, όπως φαίνεται στο σχήμα.



Για τις ταχύτητες διάδοσης του φωτός στα δύο μέσα ισχύει:

α. $c_A = c_B$.

β. $c_A > c_B$.

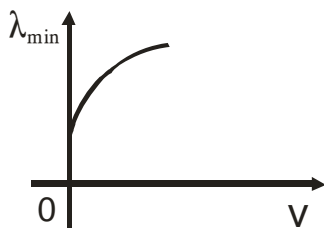
γ. $c_A < c_B$.

Μονάδες 2

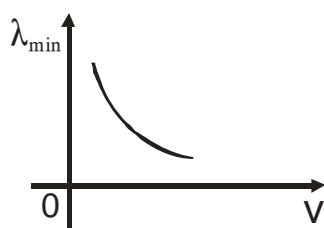
Να αιτιολογήσετε την απάντησή σας.

Μονάδες 4

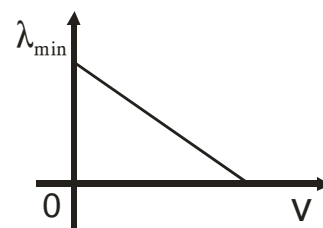
2. Σε συσκευή παραγωγής ακτίνων X, μεταξύ καθόδου και ανόδου εφαρμόζουμε τάση V . Υποθέτουμε ότι τα ηλεκτρόνια εξέρχονται από τη θερμαινόμενη κάθοδο με αμελητέα ταχύτητα. Το ελάχιστο μήκος κύματος λ_{\min} του συνεχούς φάσματος των ακτίνων X μεταβάλλεται με την τάση V , όπως απεικονίζεται:



(1)



(2)



(3)

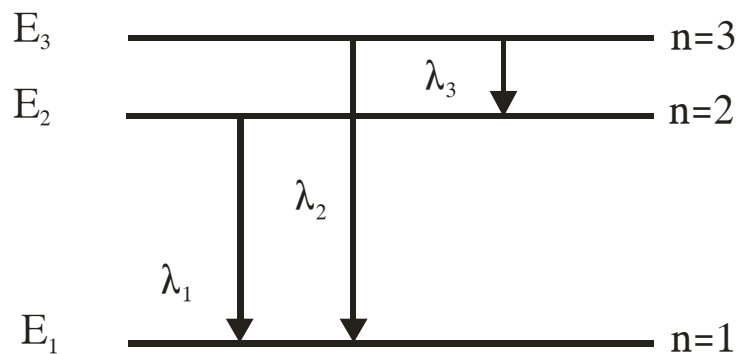
- α. στο διάγραμμα (1).
- β. στο διάγραμμα (2).
- γ. στο διάγραμμα (3).

Μονάδες 2

Να αιτιολογήσετε την απάντησή σας.

Μονάδες 4

3. Το σχήμα δείχνει το διάγραμμα των ενεργειακών σταθμών του ατόμου του υδρογόνου. Τα λ_1 , λ_2 , λ_3 είναι τα μήκη κύματος της ακτινοβολίας που εκπέμπεται κατά τις μεταβάσεις του ηλεκτρονίου μεταξύ των ενεργειακών σταθμών, όπως δείχνουν τα βέλη και f_1 , f_2 , f_3 οι αντίστοιχες συχνότητες.



Ποια από τις παρακάτω σχέσεις είναι σωστή;

α. $\lambda_2 = \lambda_1 + \lambda_3$.

β. $\lambda_2 = \frac{\lambda_1 \cdot \lambda_3}{\lambda_1 + \lambda_3}$.

γ. $f_2 = \frac{f_1 \cdot f_3}{f_1 + f_3}$.

Μονάδες 2

Να αιτιολογήσετε την απάντησή σας.

Μονάδες 5

4. Τρεις ραδιενεργοί πυρήνες Α, Β, Γ με μαζικούς αριθμούς 12, 16 και 56 αντίστοιχα έχουν ενέργειες σύνδεσης $E_A = 92\text{MeV}$, $E_B = 127\text{MeV}$ και $E_\Gamma = 492\text{MeV}$.

Σταθερότερος είναι:

- α. ο πυρήνας Α.
- β. ο πυρήνας Β.
- γ. ο πυρήνας Γ.

Μονάδες 2

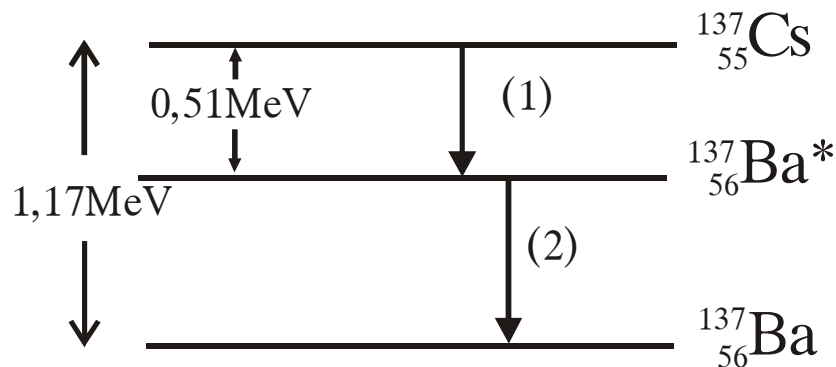
Να αιτιολογήσετε την απάντησή σας.

Μονάδες 4

ΘΕΜΑ 3ο

Στο διάγραμμα ενεργειακών σταθμών του σχήματος φαίνονται δύο διασπάσεις, η (1) και η (2).

Τη χρονική στιγμή $t = 0$ ένα ραδιενεργό δείγμα περιέχει $4 \cdot 10^{20}$ πυρήνες $^{137}_{55}\text{Cs}$ με χρόνο υποδιπλασιασμού $T_{1/2} = 9,2 \cdot 10^8 \text{ s}$ για τη διάσπαση (1).



- α. Να γραφούν οι πυρηνικές αντιδράσεις που παριστάνουν τις διασπάσεις (1) και (2) και να χαρακτηριστούν ως διάσπαση α ή διάσπαση β^- ή διάσπαση γ.

Μονάδες 4

- β. Σε μια από τις παραπάνω διασπάσεις παράγεται ένα φωτόνιο ορισμένης ενέργειας. Να υπολογιστεί η συχνότητα του φωτονίου αυτού.

Μονάδες 6

- γ. Να υπολογιστεί η σταθερά διάσπασης του $^{137}_{55}\text{Cs}$ για τη διάσπαση (1).

Μονάδες 6

- δ. Πόση ενέργεια ελευθερώνεται κατά τη διάσπαση (1) μέχρι τη στιγμή που η αρχική ενεργότητα του δείγματος υποτετραπλασιάζεται.

Μονάδες 9

Δίνονται: η σταθερά του Planck $h = 6,6 \cdot 10^{-34} \text{ J}\cdot\text{s}$,
 $1 \text{ MeV} = 1,6 \cdot 10^{-13} \text{ J}$, $\ln 2 = 0,69$.

ΘΕΜΑ 4ο

Μονοχρωματική ακτινοβολία Α έχει μήκος κύματος στο κενό $\lambda_{0A} = 600 \text{ nm}$. Άτομο υδρογόνου το οποίο βρίσκεται στη δεύτερη διεγερμένη ενεργειακή κατάσταση ($n = 3$) απορροφά ένα φωτόνιο της ακτινοβολίας αυτής και ιονίζεται.

- A.** Να υπολογιστούν:

- α. η ενέργεια του φωτονίου της ακτινοβολίας Α.

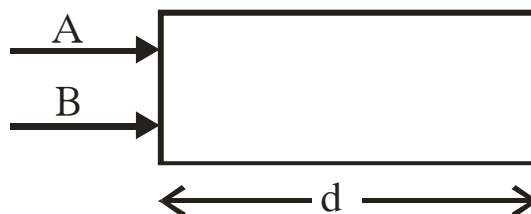
Μονάδες 5

- β. η κινητική ενέργεια του ηλεκτρονίου του ατόμου του υδρογόνου μετά τον ιονισμό μετροημένη σε eV.

Θεωρούμε ότι η κινητική ενέργεια του ατόμου του υδρογόνου δεν μεταβάλλεται κατά την απορρόφηση του φωτονίου.

Μονάδες 6

- B.** Η μονοχρωματική ακτινοβολία Α και μία άλλη μονοχρωματική ακτινοβολία Β προσπίπτουν ταυτόχρονα και κάθετα σε διαφανές πλακίδιο πάχους $d = 2 \text{ mm}$, όπως φαίνεται στο σχήμα.



ΑΡΧΗ 7ΗΣ ΣΕΛΙΔΑΣ

Το πάχος d του πλακιδίου αντιστοιχεί σε N_A μήκη κύματος της ακτινοβολίας A στο πλακίδιο ή σε N_B μήκη κύματος της ακτινοβολίας B στο πλακίδιο, με $N_B = 3N_A$.

Αν n_A και n_B οι δείκτες διάθλασης του πλακιδίου για τις ακτινοβολίες A και B αντίστοιχα και $\frac{n_A}{n_B} = 1/2$, να

βρεθεί το μήκος κύματος λ_{0B} της ακτινοβολίας B στο κενό.

Μονάδες 7

Γ. Αν η διαφορά των χρόνων εξόδου των δύο ακτινοβολιών από το πλακίδιο είναι $\Delta t = 8 \cdot 10^{-12} \text{s}$ να βρεθούν οι δείκτες διάθλασης n_A και n_B .

Μονάδες 7

Δίνονται η ταχύτητα του φωτός στο κενό $c_0 = 3 \cdot 10^8 \text{m/s}$, η ενέργεια του ατόμου του υδρογόνου στη θεμελιώδη κατάσταση $E_1 = -13,6 \text{eV}$, $1 \text{eV} = 1,6 \cdot 10^{-19} \text{J}$, $1 \text{nm} = 10^{-9} \text{m}$ και $h = 6,6 \cdot 10^{-34} \text{J}\cdot\text{s}$.

ΟΛΗΓΙΕΣ (για τους εξεταζομένους)

1. Στο τετράδιο να γράψετε μόνο τα προκαταρκτικά (ημερομηνία, εξεταζόμενο μάθημα). Να μην αντιγράψετε τα θέματα στο τετράδιο. Τα σχήματα που θα χρησιμοποιήσετε στο τετράδιο μπορείτε να τα σχεδιάσετε και με μολύβι.
2. Να γράψετε το ονοματεπώνυμό σας στο πάνω μέρος των φωτοαντιγράφων, αμέσως μόλις σας παραδοθούν. Καμιά άλλη σημείωση δεν επιτρέπεται να γράψετε. Κατά την αποχώρησή σας να παραδώσετε μαζί με το τετράδιο και τα φωτοαντίγραφα.
3. Να απαντήσετε στο τετράδιό σας σε όλα τα θέματα.
4. Κάθε απάντηση επιστημονικά τεκμηριωμένη είναι αποδεκτή.
5. Διάρκεια εξέτασης: τρεις (3) ώρες μετά τη διανομή των φωτοαντιγράφων.
6. Χρόνος δυνατής αποχώρησης: μετά τη 10.30' πρωινή.

ΚΑΛΗ ΕΠΙΤΥΧΙΑ

ΤΕΛΟΣ ΜΗΝΥΜΑΤΟΣ

ΤΕΛΟΣ 7ΗΣ ΣΕΛΙΔΑΣ

ΑΡΧΗ 1ΗΣ ΣΕΛΙΔΑΣ
ΑΠΟΛΥΤΗΡΙΕΣ ΕΞΕΤΑΣΕΙΣ Γ΄ ΤΑΞΗΣ
ΗΜΕΡΗΣΙΟΥ ΓΕΝΙΚΟΥ ΛΥΚΕΙΟΥ
ΤΡΙΤΗ 22 ΜΑΙΟΥ 2007
ΕΞΕΤΑΖΟΜΕΝΟ ΜΑΘΗΜΑ: ΦΥΣΙΚΗ ΓΕΝΙΚΗΣ ΠΑΙΔΕΙΑΣ
ΣΥΝΟΛΟ ΣΕΛΙΔΩΝ: ΕΠΤΑ (7)

ΘΕΜΑ 1^ο

Στις ερωτήσεις 1-4 να γράψετε στο τετράδιό σας τον αριθμό της ερώτησης και δίπλα το γράμμα, που αντιστοιχεί στη σωστή απάντηση.

1. Η υπέρυθη ακτινοβολία
- α. συμμετέχει στη μετατροπή του οξυγόνου της ατμόσφαιρας σε όζον.
 - β. απορροφάται επιλεκτικά από την ύλη.
 - γ. προκαλεί φωσφορισμό.
 - δ. έχει μεγαλύτερη συχνότητα από την υπεριώδη.

Μονάδες 5

2. Στους λαμπτήρες φθορισμού η αποδιέγερση των ατόμων υδραργύρου έχει ως αποτέλεσμα την εκπομπή
- α. υπέρυθρης ακτινοβολίας.
 - β. ορατής ακτινοβολίας.
 - γ. υπεριώδους ακτινοβολίας.
 - δ. ακτίνων Χ.

Μονάδες 5

3. Κατά τη διάσπαση γ
- α. μεταβάλλεται ο ατομικός αριθμός Z του μητρικού πυρήνα.
 - β. ο ατομικός αριθμός Z ελαττώνεται κατά 1 και ο μαζικός αριθμός A αυξάνεται κατά 2.

ΑΡΧΗ 2ΗΣ ΣΕΛΙΔΑΣ

- γ. δεν αλλάζει ούτε ο ατομικός αριθμός Z , ούτε ο μαζικός αριθμός A .
- δ. εκπέμπεται φωτόνιο με ενέργεια μερικών eV.

Μονάδες 5

4. Θερμοπυρηνική σύντηξη είναι η διαδικασία κατά την οποία
- α. ένας βαρύς πυρήνας διασπάται εκπέμποντας ένα ηλεκτρόνιο.
 - β. έχουμε συνένωση δύο ελαφρών πυρήνων και το σχηματισμό ενός βαρύτερου.
 - γ. ένας βαρύς πυρήνας διασπάται σε δύο ελαφρύτερους πυρήνες.
 - δ. ένας πυρήνας μετατρέπεται σε ελαφρύτερο με εκπομπή σωματίου α .

Μονάδες 5

5. Να χαρακτηρίσετε τις προτάσεις που ακολουθούν, γράφοντας στο τετράδιό σας δίπλα στο γράμμα που αντιστοιχεί σε κάθε πρόταση, τη λέξη **Σωστό**, αν η πρόταση είναι σωστή, ή **Λάθος**, αν η πρόταση είναι λανθασμένη.
- α. Το πρότυπο του Bohr ερμηνεύει τα γραμμικά φάσματα όλων των ατόμων.
 - β. Το οπτικά πυκνότερο μέσον είναι αυτό που έχει τον μεγαλύτερο δείκτη διάθλασης.
 - γ. Τα φωτόνια που εκπέμπονται κατά τις αποδιεγέρσεις των πυρήνων έχουν ενέργειες μικρότερες από τις ενέργειες των φωτονίων του ορατού φωτός.
 - δ. Σε ένα υλικό οπτικό μέσον η ταχύτητα του φωτός είναι ίδια για διαφορετικά μήκη κύματος.
 - ε. Η σταθερά διάσπασης λ εξαρτάται από τον αρχικό αριθμό των πυρήνων του ραδιενεργού υλικού.

Μονάδες 5

ΘΕΜΑ 2°

Για τις παρακάτω ερωτήσεις **1-3** να γράψετε στο τετράδιό σας τον αριθμό της ερώτησης και δίπλα το γράμμα που αντιστοιχεί στη σωστή απάντηση.

- 1.** Συσκευή ακτίνων X παράγει ακτινοβολία ελάχιστου μήκους κύματος $\lambda_{\min 1}$. Διπλασιάζουμε την τάση μεταξύ ανόδου και καθόδου στη συσκευή. Η ακτινοβολία που παράγεται τώρα έχει ελάχιστο μήκος κύματος $\lambda_{\min 2}$.

Για τις συχνότητες f_1 και f_2 που αντιστοιχούν στις ακτινοβολίες με μήκη κύματος $\lambda_{\min 1}$ και $\lambda_{\min 2}$ ισχύει:

α. $f_1 = 2f_2$.

β. $f_1 = f_2$.

γ. $2f_1 = f_2$.

Μονάδες 3

Να αιτιολογήσετε την απάντησή σας.

Μονάδες 5

- 2.** Δύο ραδιενεργά υλικά A και B, κάποια χρονική στιγμή έχουν τον ίδιο αριθμό αδιάσπαστων πυρήνων. Ξέρουμε επίσης ότι το υλικό A έχει τετραπλάσιο χρόνο ημιζωής από το B. Ποια από τις παρακάτω σχέσεις ισχύει για τις ενεργότητες των δύο υλικών εκείνη τη χρονική στιγμή;

α. $\left| \frac{\Delta N}{\Delta t} \right|_A = \frac{1}{4} \left| \frac{\Delta N}{\Delta t} \right|_B$

β. $\left| \frac{\Delta N}{\Delta t} \right|_B = \frac{1}{4} \left| \frac{\Delta N}{\Delta t} \right|_A$

γ. $\left| \frac{\Delta N}{\Delta t} \right|_A = \frac{1}{2} \left| \frac{\Delta N}{\Delta t} \right|_B$

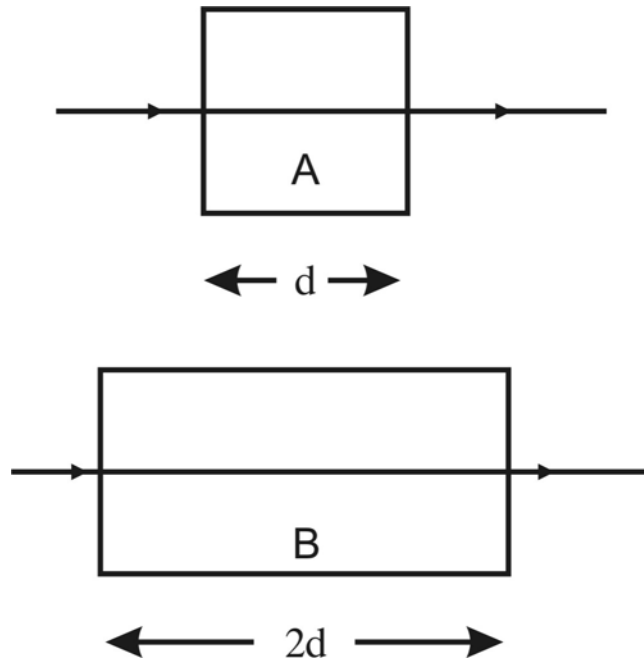
Μονάδες 3

ΑΡΧΗ 4ΗΣ ΣΕΛΙΔΑΣ

Να αιτιολογήσετε την απάντησή σας.

Μονάδες 5

3. Δύο ακτίνες της ίδιας μονοχρωματικής ακτινοβολίας προσπίπτουν κάθετα από το κενό σε οπτικά υλικά A και B πάχους d και $2d$, αντίστοιχα, και διέρχονται από αυτά όπως φαίνεται στο σχήμα.



Τα μήκη κύματος της ακτινοβολίας στα δύο υλικά είναι αντίστοιχα λ_A και λ_B και ισχύει $\lambda_A = \lambda_B/2$. Αν t_A και t_B είναι οι αντίστοιχοι χρόνοι διέλευσης της ακτινοβολίας από τα δύο υλικά ισχύει:

- α. $t_A = t_B/2$.
- β. $t_A = t_B$.
- γ. $t_A = t_B/4$.

Μονάδες 3

Να αιτιολογήσετε την απάντησή σας.

Μονάδες 6

ΘΕΜΑ 3^ο

Φορτισμένα σωματίδια επιταχύνονται και διέρχονται από αέριο υδρογόνο τα άτομα του οποίου βρίσκονται στη θεμελιώδη κατάσταση. Ένα φορτισμένο σωματίδιο συγκρούεται με ένα ακίνητο άτομο υδρογόνου, στο οποίο δίνει το 75% της κινητικής του ενέργειας.

Το άτομο του υδρογόνου παραμένει ακίνητο μετά την κρούση και διεγείρεται σε ενεργειακή στάθμη E_n , από την οποία για να απομακρυνθεί το ηλεκτρόνιό του σε πολύ μεγάλη απόσταση, όπου δεν αλληλεπιδρά με τον πυρήνα, χρειάζεται ελάχιστη ενέργεια 0,85 eV.

- α. Να υπολογίσετε τον κβαντικό αριθμό n , της ενεργειακής στάθμης στην οποία διεγέρθηκε το άτομο του υδρογόνου.

Μονάδες 6

- β. Να σχεδιάσετε το διάγραμμα των ενεργειακών σταθμών του ατόμου, στο οποίο να φαίνονται οι δυνατές μεταβάσεις του ηλεκτρονίου του διεγερμένου ατόμου κατά την αποδιέγερσή του.

Μονάδες 6

- γ. Να υπολογίσετε την αρχική κινητική ενέργεια του φορτισμένου σωματιδίου.

Μονάδες 7

- δ. Να υπολογίσετε τη συχνότητα ενός φωτονίου που θα έπρεπε να απορροφηθεί από το ίδιο άτομο του υδρογόνου, ώστε να πραγματοποιηθεί η ίδια μετάβαση στην ενεργειακή στάθμη E_n .

Μονάδες 6

Δίνονται: Η ολική ενέργεια της θεμελιώδους κατάστασης του ατόμου του υδρογόνου $E_1 = -13,6$ eV.

Η σταθερά του Planck $h = 4,25 \cdot 10^{-15}$ eV·s.

ΘΕΜΑ 4^ο

Λόγω της μεγάλης ενέργειας σύνδεσης των νουκλεονίων των σωματίων α είναι δυνατές πυρηνικές αντιδράσεις κατά τις οποίες πρωτόνια, με σχετικά χαμηλή κινητική ενέργεια, προκαλούν τη διάσπαση ελαφρών πυρήνων. Έστω ότι πρωτόνιο με κινητική ενέργεια 2 MeV προσπίπτει σε ακίνητο πυρήνα Βορίου ${}^{11}_5\text{B}$ με αποτέλεσμα να δημιουργούνται τρία σωματία α .

α. Να γράψετε την πυρηνική αντίδραση.

Μονάδες 4

β. Να βρείτε την ενέργεια Q της αντίδρασης.

Μονάδες 8

γ. Η αντίδραση αυτή είναι εξώθερμη ή ενδόθερμη;

Μονάδες 5

δ. Να υπολογίσετε την κινητική ενέργεια των προϊόντων της αντίδρασης.

Μονάδες 8

Για τις μάζες ηρεμίας δίνονται:

$${}^1_1\text{H}: m_{\text{H}}c^2 = 940 \text{ MeV},$$

$${}^{11}_5\text{B}: m_{\text{B}}c^2 = 10260 \text{ MeV},$$

$${}^4_2\text{He}: m_{\alpha}c^2 = 3730 \text{ MeV}.$$

ΟΔΗΓΙΕΣ ΓΙΑ ΤΟΥΣ ΕΞΕΤΑΖΟΜΕΝΟΥΣ

1. Στο τετράδιο να γράψετε μόνο τα προκαταρκτικά (ημερομηνία, κατεύθυνση, εξεταζόμενο μάθημα). **Να μην αντιγράψετε** τα θέματα στο τετράδιο.

**ΕΠΑΝΑΛΗΠΤΙΚΕΣ ΑΠΟΛΥΤΗΡΙΕΣ ΕΞΕΤΑΣΕΙΣ
ΗΜΕΡΗΣΙΟΥ ΓΕΝΙΚΟΥ ΛΥΚΕΙΟΥ
ΠΑΡΑΣΚΕΥΗ 29 ΙΟΥΝΙΟΥ 2007
ΕΞΕΤΑΖΟΜΕΝΟ ΜΑΘΗΜΑ: ΦΥΣΙΚΗ ΓΕΝΙΚΗΣ ΠΑΙΔΕΙΑΣ
ΣΥΝΟΛΟ ΣΕΛΙΔΩΝ: ΕΠΤΑ (7)**

ΘΕΜΑ 1ο

Στις ερωτήσεις 1-4 να γράψετε στο τετράδιό σας τον αριθμό της ερώτησης και δίπλα το γράμμα που αντιστοιχεί στη σωστή απάντηση.

1. Το άτομο του υδρογόνου όταν βρίσκεται στη θεμελιώδη κατάσταση έχει ολική ενέργεια $E_1 = - 13,6 \text{ eV}$.

Αν απορροφήσει ενέργεια 18 eV :

- α. διεγείρεται.
- β. ιονίζεται.
- γ. εκπέμπει φωτόνια.
- δ. το ηλεκτρόνιό του μεταπηδά από μία επιτρεπόμενη τροχιά σε άλλη τροχιά μεγαλύτερης ενέργειας.

Μονάδες 5

2. Η θεωρία των κβάντα:

- α. κατέρριψε την ηλεκτρομαγνητική θεωρία του Maxwell.
- β. δέχεται ότι κάθε άτομο απορροφά και εκπέμπει ενέργεια κατά συνεχή τρόπο.
- γ. δέχεται ότι η ενέργεια των φωτονίων είναι ανεξάρτητη από τη συχνότητά τους.
- δ. ερμηνεύει φαινόμενα που σχετίζονται με την αλληλεπίδραση της φωτεινής ακτινοβολίας με την ύλη.

Μονάδες 5

3. Το ανθρώπινο μάτι μπορεί να δει μονοχρωματική ηλεκτρομαγνητική ακτινοβολία, το μήκος κύματος της οποίας στο κενό είναι:
- α. 100 nm.
 - β. 300 nm.
 - γ. 500 nm.
 - δ. 800 nm.

Μονάδες 5

4. Η ισχυρή πυρηνική δύναμη μεταξύ δύο νουκλεονίων είναι σχεδόν μηδέν όταν η απόσταση μεταξύ των κέντρων τους είναι:
- α. $4 \cdot 10^{-14}$ m.
 - β. $4 \cdot 10^{-16}$ m.
 - γ. $4 \cdot 10^{-18}$ m.
 - δ. $4 \cdot 10^{-20}$ m.

Μονάδες 5

Στην παρακάτω ερώτηση **5** να γράψετε στο τετράδιό σας το γράμμα κάθε πρότασης και δίπλα σε κάθε γράμμα τη λέξη **Σωστό** για τη σωστή πρόταση και τη λέξη **Λάθος** για τη λανθασμένη.

5. α. Ο διασκεδασμός οφείλεται στο γεγονός ότι ο δείκτης διάθλασης του υλικού έχει διαφορετική τιμή για κάθε χρώμα.
- β. Όσο μικρότερη είναι η ενέργεια σύνδεσης ανά νουκλεόνιο ενός πυρήνα τόσο σταθερότερος είναι ο πυρήνας.
- γ. Το φάσμα των ακτίνων X είναι μόνο γραμμικό.
- δ. Η διαδικασία κατά την οποία ένας πυρήνας μετατρέπεται σε έναν άλλο πυρήνα διαφορετικού στοιχείου ονομάζεται μεταστοιχείωση.

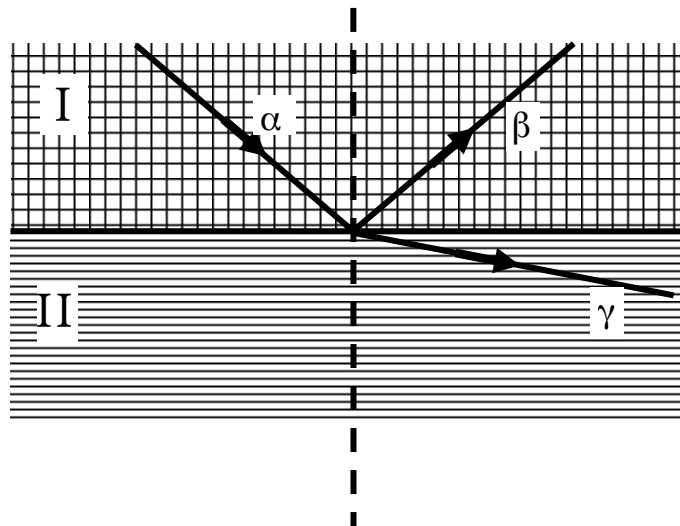
- ε. Στους λαμπτήρες αλογόνου έχουμε καταλυτική δράση του ιωδίου στην επανατοποθέτηση των ατόμων βολφραμίου στο νήμα.

Μονάδες 5

ΘΕΜΑ 2ο

Για τις παρακάτω ερωτήσεις 1-3 να γράψετε στο τετράδιό σας τον αριθμό της ερώτησης και δίπλα το γράμμα που αντιστοιχεί στη σωστή απάντηση.

1. Μονοχρωματική φωτεινή ακτίνα α προσπίπτει στη διαχωριστική επιφάνεια δύο μέσων I και II, οπότε προκύπτουν οι ακτίνες β και γ .



- α. Για τους δείκτες διάθλασης των δύο μέσων θα ισχύει:
- i) $n_I > n_{II}$.
 - ii) $n_I = n_{II}$.
 - iii) $n_I < n_{II}$.

Μονάδες 2

Να δικαιολογήσετε την απάντησή σας.

Μονάδες 4

β. Για τα μήκη κύματος των ακτίνων α , β και γ θα ισχύει:

i) $\lambda_\alpha > \lambda_\beta$ και $\lambda_\alpha > \lambda_\gamma$.

ii) $\lambda_\alpha = \lambda_\beta$ και $\lambda_\alpha > \lambda_\gamma$.

iii) $\lambda_\alpha = \lambda_\beta$ και $\lambda_\alpha = \lambda_\gamma$.

iv) $\lambda_\alpha = \lambda_\beta$ και $\lambda_\alpha < \lambda_\gamma$.

Μονάδες 2

Να δικαιολογήσετε την απάντησή σας.

Μονάδες 5

2. Η ολική ενέργεια του ηλεκτρονίου στο άτομο του υδρογόνου (εννοούμε την ενέργεια του συστήματος που αποτελείται από το ηλεκτρόνιο και τον ακίνητο πυρήνα του ατόμου) είναι:

α) $E = -k \frac{e^2}{r}$. **β)** $E = -k \frac{e^2}{2r}$. **γ)** $E = k \frac{e^2}{2r}$.

Μονάδες 2

Να δικαιολογήσετε την απάντησή σας.

Μονάδες 5

3. Δύο μονοχρωματικές ηλεκτρομαγνητικές ακτινοβολίες ακτίνων X, οι A και B με συχνότητες f_A και f_B αντίστοιχα, προσπίπτουν κάθετα σε πλάκα ορισμένου πάχους και την διαπερνούν.

Αν $f_A > f_B$ τότε:

α) το ποσοστό της ακτινοβολίας A που απορροφήθηκε είναι μεγαλύτερο από το αντίστοιχο ποσοστό της ακτινοβολίας B.

β) το ποσοστό της ακτινοβολίας A που απορροφήθηκε είναι μικρότερο από το αντίστοιχο ποσοστό της ακτινοβολίας B.

- γ) το ποσοστό της ακτινοβολίας Α που απορροφήθηκε είναι ίσο με το αντίστοιχο ποσοστό της ακτινοβολίας Β.

Μονάδες 2

Να δικαιολογήσετε την απάντησή σας.

Μονάδες 3

ΘΕΜΑ 3ο

Αρχικά ακίνητο ηλεκτρόνιο επιταχύνεται σε διαφορά δυναμικού V και αμέσως μετά συγκρούεται με ακίνητο άτομο υδρογόνου που βρίσκεται στη θεμελιώδη κατάσταση. Μετά την κρούση το ηλεκτρόνιο έχει κινητική ενέργεια $K' = 0,41 \text{ eV}$. Το άτομο του υδρογόνου απορροφά ενέργεια και μεταβαίνει στη 2^η διεγερμένη κατάσταση.

Θεωρούμε ότι το άτομο του υδρογόνου παραμένει ακίνητο κατά τη διάρκεια της αλληλεπίδρασής του με το ηλεκτρόνιο.

Να υπολογίσετε:

- α. τη διαφορά δυναμικού V που επιτάχυνε το ηλεκτρόνιο.

Μονάδες 6

- β. τη δυναμική ενέργεια του ηλεκτρονίου του ατόμου όταν βρίσκεται στη 2^η διεγερμένη κατάσταση.

Μονάδες 6

- γ. το μέτρο της στροφορμής του ηλεκτρονίου του ατόμου όταν βρίσκεται στη 2^η διεγερμένη κατάσταση.

Μονάδες 6

- δ. τη μεγαλύτερη δυνατή συχνότητα του φωτονίου που μπορεί να εκπέμψει το άτομο του υδρογόνου κατά την αποδιέγερσή του.

Μονάδες 7

Δίνονται:

$$h = 4,03 \cdot 10^{-15} \text{ eV}\cdot\text{s}, \quad \frac{h}{\pi} = 1,3 \cdot 10^{-15} \text{ eV}\cdot\text{s}, \quad E_1 = -13,6 \text{ eV}.$$

ΘΕΜΑ 4ο

Σε κάποιο πέτρωμα το μόνο ραδιενεργό ισότοπο ${}_{92}^{238}\text{U}$ περιέχεται σε ποσοστό 50%. Το ισότοπο αυτό έχει ημιπερίοδο ζωής $4,6 \cdot 10^9$ έτη και διασπάται σε πυρήνα Th με εκπομπή σωματίου α.

α. Να υπολογίσετε τη σταθερά διάσπασης του πυρήνα ${}_{92}^{238}\text{U}$.
Μονάδες 6

β. Πόση μάζα πετρώματος έχει ενεργότητα $15 \cdot 10^8$ Bq;
Μονάδες 7

γ. Πόσα σωματία α εκπέμπονται ανά δευτερόλεπτο από 47,6 g πετρώματος;
Μονάδες 6

δ. Ένα από τα εκπεμπόμενα σωματία α ενέργειας 4,5 MeV, κατευθύνεται από πολύ μακριά προς πυρήνα ${}_{80}^{200}\text{Hg}$ ο οποίος παραμένει ακίνητος.
Να βρείτε την ελάχιστη απόσταση από τον πυρήνα στην οποία μπορεί να πλησιάσει το σωματίο α.
Μονάδες 6

Δίνονται:

$$\ln 2 = 0,69, \quad 1 \text{ έτος} = 3 \cdot 10^7 \text{ s}, \quad e = 1,6 \cdot 10^{-19} \text{ C}, \quad N_A = 6 \cdot 10^{23}$$

$$\text{Για το } {}_{92}^{238}\text{U}: \quad M_{\text{mol}} = 238 \frac{\text{g}}{\text{mol}}, \quad 1 \text{ MeV} = 1,6 \cdot 10^{-13} \text{ J}.$$

$$\text{Σταθερά του νόμου του Coulomb: } k = 9 \cdot 10^9 \frac{\text{N} \cdot \text{m}^2}{\text{C}^2}.$$

ΟΔΗΓΙΕΣ ΓΙΑ ΤΟΥΣ ΕΞΕΤΑΖΟΜΕΝΟΥΣ

1. Στο τετράδιο να γράψετε μόνο τα προκαταρκτικά (ημερομηνία, εξεταζόμενο μάθημα). **Να μην αντιγράψετε** τα θέματα στο τετράδιο.
2. Να γράψετε το ονοματεπώνυμό σας στο πάνω μέρος των φωτοαντιγράφων, αμέσως μόλις σας παραδοθούν. **Καμιά άλλη σημείωση δεν επιτρέπεται να γράψετε.**

**ΑΠΟΛΥΤΗΡΙΕΣ ΕΞΕΤΑΣΕΙΣ Γ' ΤΑΞΗΣ
ΗΜΕΡΗΣΙΟΥ ΓΕΝΙΚΟΥ ΛΥΚΕΙΟΥ
ΠΕΜΠΤΗ 22 ΜΑΪΟΥ 2008
ΕΞΕΤΑΖΟΜΕΝΟ ΜΑΘΗΜΑ: ΦΥΣΙΚΗ ΓΕΝΙΚΗΣ ΠΑΙΔΕΙΑΣ
ΣΥΝΟΛΟ ΣΕΛΙΔΩΝ: ΠΕΝΤΕ (5)**

ΘΕΜΑ 1^ο

Στις ερωτήσεις 1-4 να γράψετε στο τετράδιό σας τον αριθμό της ερώτησης και δίπλα το γράμμα, που αντιστοιχεί στη σωστή απάντηση.

1. Ακτίνα πράσινου φωτός προερχόμενη από το κενό εισέρχεται σε δεξαμενή νερού, τότε
 - α. η ταχύτητα του φωτός αυξάνεται.
 - β. η συχνότητα του φωτός μειώνεται.
 - γ. το μήκος κύματος του φωτός δεν μεταβάλλεται.
 - δ. το μήκος κύματος του φωτός μειώνεται.

Μονάδες 5

2. Κατά τη διάσπαση β^- ενός ραδιενεργού πυρήνα παράγεται ηλεκτρόνιο. Το ηλεκτρόνιο αυτό προέρχεται
 - α. από τα ηλεκτρόνια που περιφέρονται γύρω από τον πυρήνα.
 - β. από τον πυρήνα στον οποίο υπάρχουν ελεύθερα ηλεκτρόνια.
 - γ. από τη διάσπαση νετρονίου του πυρήνα.
 - δ. από τη διάσπαση πρωτονίου του πυρήνα.

Μονάδες 5

3. Οι ραδιενεργές ακτίνες α , β , γ , τα νετρόνια και η ηλεκτρομαγνητική ακτινοβολία μεγάλης ενέργειας ονομάζονται ιονίζουσες ακτινοβολίες διότι:
 - α. είναι ιόντα.

- β. είναι ραδιενεργές.
- γ. προκαλούν βιολογικές βλάβες.
- δ. προκαλούν το σχηματισμό ιόντων.

Μονάδες 5

4. Ο χρόνος του υποδιπλασιασμού ενός ραδιενεργού στοιχείου εξαρτάται:
- α. από τον αρχικό αριθμό πυρήνων.
 - β. από το είδος του ραδιενεργού στοιχείου.
 - γ. από την ενεργότητα του δείγματος.
 - δ. από τη μάζα του ραδιενεργού στοιχείου.

Μονάδες 5

5. Να χαρακτηρίσετε τις προτάσεις που ακολουθούν, γράφοντας στο τετράδιό σας δίπλα στο γράμμα που αντιστοιχεί σε κάθε πρόταση, τη λέξη **Σωστό**, αν η πρόταση είναι σωστή, ή **Λάθος**, αν η πρόταση είναι λανθασμένη.
- α. Οι υπεριώδεις ακτίνες είναι ορατές για το ανθρώπινο μάτι.
 - β. Το φως συμπεριφέρεται άλλοτε ως κύμα και άλλοτε ως σωματίδιο.
 - γ. Σύμφωνα με το πρότυπο του Thomson τα άτομα των αερίων εκπέμπουν γραμμικό φάσμα.
 - δ. Το ραδιενεργό κοβάλτιο χρησιμοποιείται για την επιλεκτική καταστροφή ιστών, όπως είναι οι όγκοι.
 - ε. Η ακτινοβολία α δεν εκτρέπεται από το μαγνητικό πεδίο.

Μονάδες 5

ΘΕΜΑ 2^ο

Για τις παρακάτω ερωτήσεις **1-3** να γράψετε στο τετράδιό σας τον αριθμό της ερώτησης και δίπλα το γράμμα που αντιστοιχεί στη σωστή απάντηση.

ΑΡΧΗ 3ΗΣ ΣΕΛΙΔΑΣ

1. Αν από τον σωλήνα ενός λαμπτήρα φθορισμού αφαιρέσουμε το εσωτερικό του επίχρισμα, ο λαμπτήρας
- α. θα φωτίζει περισσότερο.
 - β. δεν θα εκπέμπει καμιά ακτινοβολία.
 - γ. δεν θα εκπέμπει ορατό φως.

Μονάδες 3

Να αιτιολογήσετε την απάντησή σας.

Μονάδες 5

2. Όταν το άτομο του υδρογόνου βρίσκεται στη θεμελιώδη του κατάσταση η κινητική ενέργεια του ηλεκτρονίου του είναι K . Αν το άτομο του υδρογόνου μεταβεί στη δεύτερη διεγερμένη του κατάσταση, η κινητική ενέργεια του ηλεκτρονίου του γίνεται
- α. $2K$
 - β. $\frac{K}{9}$
 - γ. $\frac{K}{3}$

Μονάδες 3

Να αιτιολογήσετε την απάντησή σας.

Μονάδες 5

3. Ραδιενεργός πυρήνας A έχει ενέργεια σύνδεσης ανά νουκλεόνιο $7,9 \text{ MeV/νουκλεόνιο}$.
Ραδιενεργός πυρήνας B έχει ενέργεια σύνδεσης $E_B=1.200 \text{ MeV}$.
Αν ο πυρήνας A είναι σταθερότερος από τον πυρήνα B , τότε ο μαζικός αριθμός του πυρήνα B μπορεί να έχει την τιμή:
- α. 140
 - β. 150

γ. 160

Μονάδες 3

Να αιτιολογήσετε την απάντησή σας.

Μονάδες 6

ΘΕΜΑ 3^ο

Η σταθερά διάσπασης του ισοτόπου ^{131}I είναι 10^{-6} s^{-1} .

α. Να υπολογίσετε τον χρόνο υποδιπλασιασμού του ισοτόπου ^{131}I .

Μονάδες 6

β. Να βρείτε τον αριθμό των πυρήνων του ισοτόπου ^{131}I που περιέχονται σε ένα δείγμα ενεργότητας 10^6 Bq .

Μονάδες 6

γ. Θεωρώντας $t=0$ τη χρονική στιγμή που το παραπάνω δείγμα έχει ενεργότητα 10^6 Bq , ποιος αριθμός πυρήνων ^{131}I θα έχει διασπαστεί μέχρι τη χρονική στιγμή $t_1=21 \cdot 10^5 \text{ s}$;

Μονάδες 6

δ. Πόση θα είναι η τιμή της ενεργότητας του δείγματος τη χρονική στιγμή t_1 ;

Μονάδες 7

Δίνεται: $\ln 2 \approx 0,7$

ΘΕΜΑ 4^ο

Μονοχρωματική ακτινοβολία φωτός διατρέχει στο κενό απόσταση $d=10\lambda_0$ σε χρόνο $2 \cdot 10^{-14} \text{ s}$, όπου λ_0 το μήκος κύματος της ακτινοβολίας στο κενό.

α. Να υπολογίσετε το μήκος κύματος της ακτινοβολίας στο κενό και να εξετάσετε αν αυτή ανήκει στο ορατό φάσμα.

Μονάδες 6

β. Να υπολογίσετε την ενέργεια ενός φωτονίου της ακτινοβολίας στο κενό.

Μονάδες 6

ΑΡΧΗ 5ΗΣ ΣΕΛΙΔΑΣ

- γ. Η ακτινοβολία αυτή από το κενό εισέρχεται σε διαφανές μέσο με δείκτη διάθλασης $n=1,5$. Να υπολογίσετε σε πόσο χρόνο διανύει απόσταση $10\lambda_0$ στο μέσο αυτό.

Μονάδες 6

- δ. Να βρεθεί ο αριθμός μηκών κύματος της ακτινοβολίας στο μέσο αυτό, που αντιστοιχεί στην απόσταση $10\lambda_0$ την οποία διανύει η ακτινοβολία στο ίδιο μέσο.

Μονάδες 7

Δίνονται η ταχύτητα του φωτός στο κενό $c_0=3\cdot 10^8\text{m/s}$ και η σταθερά του Planck $h=6,6\cdot 10^{-34}\text{J}\cdot\text{s}$.

ΟΔΗΓΙΕΣ ΓΙΑ ΤΟΥΣ ΕΞΕΤΑΖΟΜΕΝΟΥΣ

1. Στο τετράδιο να γράψετε μόνο τα προκαταρκτικά (ημερομηνία, εξεταζόμενο μάθημα). **Να μην αντιγράψετε** τα θέματα στο τετράδιο.
2. Να γράψετε το ονοματεπώνυμό σας στο πάνω μέρος των φωτοαντιγράφων, αμέσως μόλις σας παραδοθούν. **Καμιά άλλη σημείωση δεν επιτρέπεται να γράψετε.** Κατά την αποχώρησή σας να παραδώσετε μαζί με το τετράδιο και τα φωτοαντίγραφα.
3. Να απαντήσετε **στο τετράδιό σας σε όλα** τα θέματα.
4. Να γράψετε τις απαντήσεις σας μόνο με μπλε ή μόνο με μαύρο στυλό. Μπορείτε να χρησιμοποιήσετε μολύβι μόνο για σχέδια, διαγράμματα και πίνακες.
5. Κάθε απάντηση επιστημονικά τεκμηριωμένη είναι αποδεκτή.
6. Διάρκεια εξέτασης: τρεις (3) ώρες μετά τη διανομή των φωτοαντιγράφων.
7. Χρόνος δυνατής αποχώρησης: μετά τη 10.30' πρωινή.

**ΚΑΛΗ ΕΠΙΤΥΧΙΑ
ΤΕΛΟΣ ΜΗΝΥΜΑΤΟΣ**

ΑΡΧΗ 1ΗΣ ΣΕΛΙΔΑΣ
ΕΠΑΝΑΛΗΠΤΙΚΕΣ ΑΠΟΛΥΤΗΡΙΕΣ ΕΞΕΤΑΣΕΙΣ
Γ΄ ΤΑΞΗΣ ΗΜΕΡΗΣΙΟΥ ΓΕΝΙΚΟΥ ΛΥΚΕΙΟΥ
ΤΡΙΤΗ 1 ΙΟΥΛΙΟΥ 2008
ΕΞΕΤΑΖΟΜΕΝΟ ΜΑΘΗΜΑ: ΦΥΣΙΚΗ ΓΕΝΙΚΗΣ ΠΑΙΔΕΙΑΣ
ΣΥΝΟΛΟ ΣΕΛΙΔΩΝ: ΠΕΝΤΕ (5)

ΘΕΜΑ 1ο

Στις ημιτελείς προτάσεις 1-4 που ακολουθούν, να γράψετε στο τετράδιό σας τον αριθμό της βασικής φράσης και, δίπλα του, το γράμμα που αντιστοιχεί στο σωστό συμπλήρωμά της.

1. Το άγνωστο σωματίδιο X, που συμμετέχει στην πυρηνική αντίδραση $X + {}^7_3\text{Li} \rightarrow {}^4_2\text{He} + {}^4_2\text{He}$, είναι

- α. ηλεκτρόνιο.
- β. πρωτόνιο.
- γ. νετρόνιο.
- δ. σωματίο α (${}^4_2\text{He}$).

Μονάδες 5

2. Η υπεριώδης ακτινοβολία

- α. είναι ορατή με γυμνό μάτι.
- β. ανιχνεύεται με τους φωρατές υπερύθρου.
- γ. είναι ακτινοβολία με μήκος κύματος μεγαλύτερο των 400 nm.
- δ. προκαλεί αμαύρωση των φωτογραφικών πλακών.

Μονάδες 5

3. Τα γραμμικά φάσματα των υδρογονοειδών ερμήνευσε

- α. το πρότυπο του Rutherford.
- β. ο Roentgen.
- γ. το πρότυπο του Bohr.
- δ. το πρότυπο του Thomson.

Μονάδες 5

ΑΡΧΗ 2ΗΣ ΣΕΛΙΔΑΣ

4. Ο μαζικός αριθμός A ενός πυρήνα εκφράζει
- α. τον αριθμό πρωτονίων.
 - β. τον αριθμό νετρονίων.
 - γ. το άθροισμα πρωτονίων και νετρονίων.
 - δ. το άθροισμα πρωτονίων και ηλεκτρονίων.

Μονάδες 5

5. Να χαρακτηρίσετε τις προτάσεις που ακολουθούν, γράφοντας στο τετράδιό σας, δίπλα στο γράμμα που αντιστοιχεί σε κάθε πρόταση, τη λέξη **Σωστό**, αν η πρόταση είναι σωστή, ή **Λάθος**, αν η πρόταση είναι λανθασμένη.

- α. Οι φωρατές υπερύθρου ανιχνεύουν αόρατη ακτινοβολία μεταξύ 700 nm και 10^6 nm .
- β. Με βάση την κβαντική θεωρία του Planck, το φως εκπέμπεται και απορροφάται από τα άτομα της ύλης κατά συνεχή τρόπο.
- γ. Τα οστά, επειδή περιέχουν στοιχεία μεγάλου ατομικού αριθμού απορροφούν περισσότερο τις ακτίνες X απ' ό,τι οι ιστοί οι οποίοι αποτελούνται από ελαφρότερα στοιχεία.
- δ. Στους λαμπτήρες πυρακτώσεως που λειτουργούν κανονικά η θερμοκρασία του νήματος βολφραμίου είναι 400°C .
- ε. Το πρότυπο του Rutherford ονομάζεται πλανητικό μοντέλο.

Μονάδες 5

ΘΕΜΑ 2ο

1. Δύο μονοχρωματικές ακτινοβολίες (A) και (B) διαδίδονται στο κενό με μήκη κύματος λ_A και λ_B αντίστοιχα, για τα οποία ισχύει η σχέση $\lambda_A = 2\lambda_B$. Αν είναι γνωστό ότι το ανθρώπινο μάτι αντιλαμβάνεται ακτινοβολίες με μήκη κύματος από 400 nm έως 700 nm και η ακτινοβολία (A) είναι ορατή, τότε η ακτινοβολία (B) είναι

ΑΡΧΗ 3ΗΣ ΣΕΛΙΔΑΣ

- α. ορατή.
- β. υπεριώδης.
- γ. υπέρυθρη.

Να επιλέξετε το γράμμα που αντιστοιχεί στο σωστό συμπλήρωμα.

Μονάδες 3

Να αιτιολογήσετε την επιλογή σας.

Μονάδες 5

2. Στην πυρηνική αντίδραση $A + B \rightarrow \Gamma + \Delta$ δίνονται οι μάζες ηρεμίας των πυρήνων $m_A = 14,003 \text{ u}$, $m_B = 1,009 \text{ u}$, $m_\Gamma = 14,004 \text{ u}$, $m_\Delta = 1,007 \text{ u}$.

Η ενέργεια Q της αντίδρασης είναι

- α. θετική.
- β. αρνητική.
- γ. μηδέν.

Να επιλέξετε το γράμμα που αντιστοιχεί στο σωστό συμπλήρωμα.

Μονάδες 3

Να αιτιολογήσετε την επιλογή σας.

Μονάδες 5

3. Σε συσκευή παραγωγής ακτίνων X, η τάση που εφαρμόζεται μεταξύ ανόδου και καθόδου είναι $V = 33 \text{ kV}$.

Η μέγιστη συχνότητα των εκπεμπόμενων φωτονίων είναι

- α. $8 \cdot 10^{18} \text{ Hz}$.
- β. $16 \cdot 10^{18} \text{ Hz}$.
- γ. $33 \cdot 10^{18} \text{ Hz}$.

Να επιλέξετε το γράμμα που αντιστοιχεί στο σωστό συμπλήρωμα.

Μονάδες 3

Να αιτιολογήσετε την επιλογή σας.

Μονάδες 6

Δίνονται: το στοιχειώδες φορτίο του ηλεκτρονίου $e = 1,6 \cdot 10^{-19} \text{ C}$, η σταθερά του Planck $h = 6,6 \cdot 10^{-34} \text{ J}\cdot\text{s}$, $1 \text{ kV} = 10^3 \text{ V}$.

ΘΕΜΑ 3ο

Υπέρυθρη ακτινοβολία διαδίδεται στον αέρα με μήκος κύματος $\lambda_0=900$ nm. Η ακτινοβολία απορροφάται πλήρως από ποσότητα νερού με ρυθμό 10^{20} φωτόνια/s. Γνωρίζουμε ότι για να αυξηθεί η θερμοκρασία αυτής της ποσότητας του νερού κατά 1°C (βαθμό Κελσίου) απαιτείται ενέργεια $E=1100$ J.

- α. Να υπολογίσετε την ενέργεια ενός φωτονίου αυτής της ακτινοβολίας.

Μονάδες 6

- β. Να υπολογίσετε την ολική ενέργεια των φωτονίων τα οποία απορροφώνται από την παραπάνω ποσότητα νερού σε χρονική διάρκεια $t_1=20$ s.

Μονάδες 9

- γ. Αν η ίδια ποσότητα νερού απορροφήσει ακτινοβολία για χρονική διάρκεια $t_2=100$ s, να βρείτε τη μεταβολή της θερμοκρασίας του νερού στη χρονική διάρκεια t_2 .

Μονάδες 10

Δίνονται: $1\text{nm}=10^{-9}\text{m}$, $h=6,6\cdot 10^{-34}\text{J}\cdot\text{s}$, η ταχύτητα του φωτός στον αέρα $c_0=3\cdot 10^8\text{m/s}$.

ΘΕΜΑ 4ο

Το μέτρο της στροφορμής του ηλεκτρονίου ενός ατόμου υδρογόνου, όταν αυτό βρίσκεται σε μια επιτρεπόμενη διεγερμένη κατάσταση είναι $L_n = \frac{2h}{\pi}$, όπου h η σταθερά του Planck.

- α. Ποιος ο κύριος κβαντικός αριθμός n της κατάστασης αυτής;

Μονάδες 6

- β. Να υπολογίσετε την ολική ενέργεια του ηλεκτρονίου στην κατάσταση αυτή.

Μονάδες 6

ΑΡΧΗ 5ΗΣ ΣΕΛΙΔΑΣ

- γ. Να σχεδιάσετε σε διάγραμμα ενεργειακών σταθμών όλες τις δυνατές μεταβάσεις του ηλεκτρονίου από την παραπάνω διεγερμένη κατάσταση στη θεμελιώδη.

Μονάδες 6

- δ. Να υπολογίσετε την ελάχιστη απαιτούμενη ενέργεια που πρέπει να απορροφήσει το άτομο ώστε το ηλεκτρόνιο από την αρχική διεγερμένη κατάσταση να βρεθεί εκτός ηλεκτρικού πεδίου του πυρήνα του ατόμου του υδρογόνου.

Μονάδες 7

Δίνεται η ενέργεια στη θεμελιώδη κατάσταση $E_1 = -13,6 \text{ eV}$.

ΟΔΗΓΙΕΣ ΓΙΑ ΤΟΥΣ ΕΞΕΤΑΖΟΜΕΝΟΥΣ

1. Στο τετράδιο να γράψετε μόνο τα προκαταρκτικά (ημερομηνία, εξεταζόμενο μάθημα). **Να μην αντιγράψετε** τα θέματα στο τετράδιο.
2. Να γράψετε το ονοματεπώνυμό σας στο πάνω μέρος των φωτοαντιγράφων, αμέσως μόλις σας παραδοθούν. **Καμιά άλλη σημείωση δεν επιτρέπεται να γράψετε.**
Κατά την αποχώρησή σας να παραδώσετε μαζί με το τετράδιο και τα φωτοαντίγραφα.
3. Να απαντήσετε **στο τετράδιό σας σε όλα** τα θέματα.
4. Να γράψετε τις απαντήσεις σας μόνο με μπλε ή μόνο με μαύρο στυλό. Μπορείτε να χρησιμοποιήσετε μολύβι μόνο για σχέδια, διαγράμματα και πίνακες.
5. Κάθε απάντηση επιστημονικά τεκμηριωμένη είναι αποδεκτή.
6. Διάρκεια εξέτασης: τρεις (3) ώρες μετά τη διανομή των φωτοαντιγράφων.
7. Χρόνος δυνατής αποχώρησης: μετά τη 10.00' πρωινή.

ΚΑΛΗ ΕΠΙΤΥΧΙΑ

ΤΕΛΟΣ ΜΗΝΥΜΑΤΟΣ

**ΑΠΟΛΥΤΗΡΙΕΣ ΕΞΕΤΑΣΕΙΣ Γ' ΤΑΞΗΣ
ΗΜΕΡΗΣΙΟΥ ΓΕΝΙΚΟΥ ΛΥΚΕΙΟΥ
ΔΕΥΤΕΡΑ 18 ΜΑΪΟΥ 2009
ΕΞΕΤΑΖΟΜΕΝΟ ΜΑΘΗΜΑ: ΦΥΣΙΚΗ ΓΕΝΙΚΗΣ ΠΑΙΔΕΙΑΣ
ΣΥΝΟΛΟ ΣΕΛΙΔΩΝ: ΕΞΙ (6)**

ΘΕΜΑ 1^ο

Στις ερωτήσεις 1-4 να γράψετε στο τετράδιό σας τον αριθμό της ερώτησης και δίπλα το γράμμα που αντιστοιχεί στη σωστή απάντηση.

1. Κατά την ανάλυση λευκού φωτός από γυάλινο πρίσμα, η γωνία εκτροπής του κίτρινου χρώματος είναι:
 - α. μικρότερη της γωνίας εκτροπής του ιώδους και της γωνίας εκτροπής του κόκκινου.
 - β. μεγαλύτερη της γωνίας εκτροπής του κόκκινου και της γωνίας εκτροπής του ιώδους.
 - γ. μεγαλύτερη της γωνίας εκτροπής του κόκκινου και μικρότερη της γωνίας εκτροπής του ιώδους.
 - δ. μικρότερη της γωνίας εκτροπής του κόκκινου και μεγαλύτερη της γωνίας εκτροπής του ιώδους.

Μονάδες 5

2. Η υπεριώδης ακτινοβολία :
 - α. έχει μήκος κύματος από 400 nm έως 700 nm.
 - β. είναι ορατή.
 - γ. δεν προκαλεί αμαύρωση της φωτογραφικής πλάκας.
 - δ. χρησιμοποιείται για την αποστείρωση ιατρικών εργαλείων.

Μονάδες 5

3. Ο αριθμός των ηλεκτρονίων κάθε ατόμου είναι:
 - α. ίσος με τον αριθμό των νετρονίων του πυρήνα του ατόμου.
 - β. ίσος με τον αριθμό των πρωτονίων του πυρήνα του ατόμου.
 - γ. διπλάσιος του αριθμού των πρωτονίων του πυρήνα του ατόμου.
 - δ. διπλάσιος του αριθμού των νετρονίων του πυρήνα του ατόμου.

Μονάδες 5

4. Το φως των λαμπτήρων πυρακτώσεως με νήμα βολφραμίου είναι αποτέλεσμα:
- α. της αποδιέγερσης των ατόμων του βολφραμίου.
 - β. της διάσπασης των πυρήνων του βολφραμίου.
 - γ. της διέγερσης των πυρήνων του βολφραμίου.
 - δ. της διάσπασης των ηλεκτρονίων του βολφραμίου.

Μονάδες 5

5. Να χαρακτηρίσετε τις προτάσεις που ακολουθούν, γράφοντας στο τετράδιό σας δίπλα στο γράμμα που αντιστοιχεί σε κάθε πρόταση, τη λέξη **Σωστό**, αν η πρόταση είναι σωστή, ή **Λάθος**, αν η πρόταση είναι λανθασμένη.

- α. Όσο μεγαλύτερη είναι η θερμοκρασία της καθόδου ενός σωλήνα παραγωγής ακτίνων X τόσο μεγαλύτερος είναι ο αριθμός των ηλεκτρονίων που εκπέμπονται στη μονάδα του χρόνου.
- β. Οι υπέρυθρες ακτινοβολίες έχουν μήκη κύματος μικρότερα από 700 nm.
- γ. Το πρότυπο του Bohr δεν μπορεί να επεκταθεί για το υδρογονοειδές ιόν He^+ .
- δ. Οι λαμπτήρες χαλαζία-ιωδίου είναι γνωστοί ως λαμπτήρες αλογόνου.
- ε. Η ενέργεια σύνδεσης ανά νουκλεόνιο μετράει τη σταθερότητα ενός πυρήνα.

Μονάδες 5

ΘΕΜΑ 2^ο

Για τις παρακάτω ερωτήσεις 1-3 να γράψετε στο τετράδιό σας τον αριθμό της ερώτησης και δίπλα το γράμμα που αντιστοιχεί στη σωστή απάντηση.

1. Ηλεκτρομαγνητική ακτινοβολία μήκους κύματος λ_0 στο κενό διαδίδεται σε γυαλί με δείκτη διάθλασης $n > 1$. Η ενέργεια ενός φωτονίου της ακτινοβολίας:
- α. είναι μεγαλύτερη στο κενό.
 - β. έχει την ίδια τιμή στο γυαλί και στο κενό.
 - γ. είναι μεγαλύτερη στο γυαλί.

Μονάδες 3

ΑΡΧΗ 3ΗΣ ΣΕΛΙΔΑΣ

Να αιτιολογήσετε την απάντησή σας.

Μονάδες 5

2. Διεγερμένο άτομο υδρογόνου αποδιεγείρεται και το ηλεκτρόνιό του μεταβαίνει από την τροχιά με κβαντικό αριθμό $n=2$ στην τροχιά με κβαντικό αριθμό $n=1$.

Αν F_2 είναι η ελκτική ηλεκτρική δύναμη που ασκεί ο πυρήνας στο ηλεκτρόνιο στην αρχική τροχιά και F_1 είναι η αντίστοιχη δύναμη στην τελική τροχιά, τότε ισχύει:

α. $F_2 = 4F_1$

β. $F_2 = \frac{F_1}{4}$

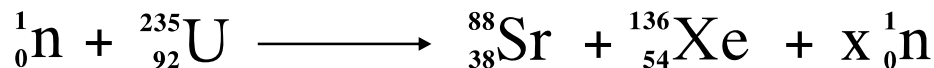
γ. $F_2 = \frac{F_1}{16}$

Μονάδες 3

Να αιτιολογήσετε την απάντησή σας.

Μονάδες 6

3. Δίνεται η πυρηνική αντίδραση:



Τότε ισχύει:

α. $x=12$

β. $x=8$

γ. $x=6$

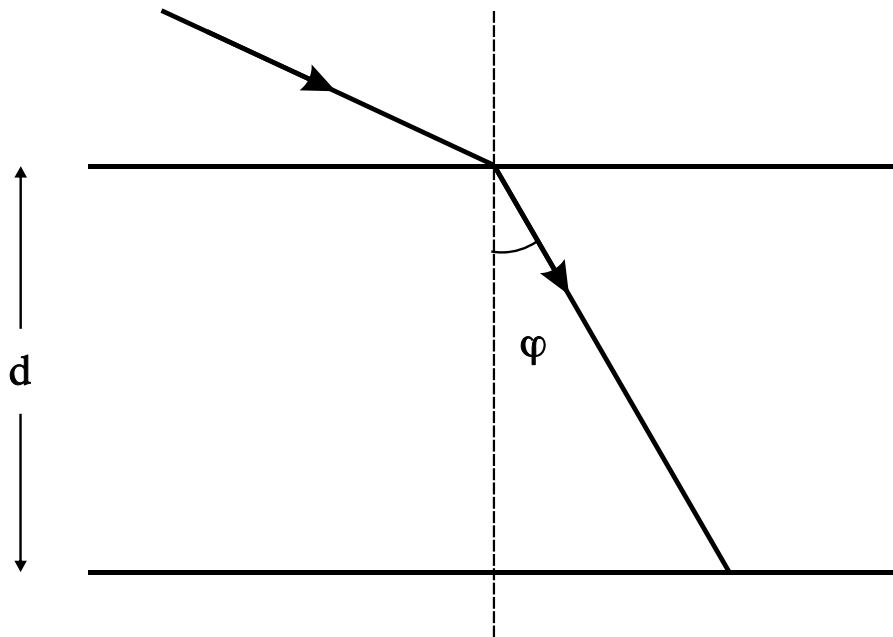
Μονάδες 3

Να αιτιολογήσετε την απάντησή σας.

Μονάδες 5

ΘΕΜΑ 3°

Λεπτή μονοχρωματική δέσμη εισέρχεται από το κενό σε γυάλινη πλάκα πάχους $d = \frac{\sqrt{3}}{8}$ m, όπως φαίνεται στο σχήμα.



Η ακτινοβολία στο κενό έχει μήκος κύματος $\lambda_0 = 600$ nm και η γωνία διάθλασης στο σημείο εισόδου της δέσμης στη γυάλινη πλάκα είναι $\varphi = 30^\circ$.

Ο δείκτης διάθλασης του γυαλιού για την ακτινοβολία αυτή είναι $n = 1,2$.

Να υπολογισθούν:

- α.** Το μήκος κύματος λ της ακτινοβολίας αυτής στο γυαλί.
Μονάδες 6
- β.** Η ταχύτητα c της ακτινοβολίας στο γυαλί.
Μονάδες 6
- γ.** Το χρονικό διάστημα Δt που χρειάζεται η ακτινοβολία για να διαπεράσει το γυαλί.
Μονάδες 6
- δ.** Ο αριθμός N των μηκών κύματος της ακτινοβολίας στο γυαλί με τον οποίο ισοδυναμεί η διαδρομή της στο γυαλί.
Μονάδες 7

ΑΡΧΗ 5ΗΣ ΣΕΛΙΔΑΣ

Δίνονται: ταχύτητα του φωτός στο κενό $c_0=3 \cdot 10^8$ m/s,

$$\eta\mu 30^\circ = \frac{1}{2}, \quad \sigma\upsilon\nu 30^\circ = \frac{\sqrt{3}}{2}, \quad 1 \text{ nm} = 10^{-9} \text{ m} .$$

ΘΕΜΑ 4^ο

Σε σωλήνα παραγωγής ακτίνων X τα ηλεκτρόνια επιταχύνονται από τάση $V_1 = \frac{66}{8} \cdot 10^3$ V.

Η ηλεκτρονική δέσμη μεταφέρει ισχύ $P=660$ W.

α. Να υπολογίσετε το ελάχιστο μήκος κύματος των ακτίνων X που παράγονται.

Μονάδες 6

β. Να υπολογίσετε την ένταση του ρεύματος της δέσμης των ηλεκτρονίων.

Μονάδες 6

γ. Να υπολογίσετε τον αριθμό των ηλεκτρονίων που προσπίπτουν στην άνοδο σε χρονικό διάστημα $\Delta t=2$ s.

Μονάδες 6

δ. Ένα από τα φωτόνια των ακτίνων X έχει μήκος κύματος $\lambda=3 \cdot 10^{-10}$ m και προήλθε από την πρώτη κρούση ενός ηλεκτρονίου με την άνοδο. Βρείτε πόσο τοις εκατό της ενέργειάς του έχασε το ηλεκτρόνιο που το εξέπεμψε.

Μονάδες 7

Δίνονται: ταχύτητα του φωτός στο κενό $c_0=3 \cdot 10^8$ m/s, σταθερά του Planck $h=6,6 \cdot 10^{-34}$ J·s, φορτίο του ηλεκτρονίου $|e|=1,6 \cdot 10^{-19}$ C.

**ΑΠΟΛΥΤΗΡΙΕΣ ΕΞΕΤΑΣΕΙΣ Γ΄ ΤΑΞΗΣ
ΗΜΕΡΗΣΙΟΥ ΓΕΝΙΚΟΥ ΛΥΚΕΙΟΥ ΚΑΙ ΠΑΝΕΛΛΑΔΙΚΕΣ
ΕΞΕΤΑΣΕΙΣ Γ΄ ΤΑΞΗΣ ΕΠΑΛ (ΟΜΑΔΑ Β΄)
ΔΕΥΤΕΡΑ 17 ΜΑΪΟΥ 2010
ΕΞΕΤΑΖΟΜΕΝΟ ΜΑΘΗΜΑ: ΦΥΣΙΚΗ
ΓΕΝΙΚΗΣ ΠΑΙΔΕΙΑΣ
ΣΥΝΟΛΟ ΣΕΛΙΔΩΝ: ΕΞΙ (6)**

ΘΕΜΑ Α

Στις ερωτήσεις Α1-Α3 να γράψετε στο τετράδιό σας τον αριθμό της ερώτησης και δίπλα το γράμμα που αντιστοιχεί στη φράση, η οποία συμπληρώνει σωστά την ημιτελή πρόταση.

Α1. Το ουράνιο τόξο είναι αποτέλεσμα

- α. της απορρόφησης του φωτός από την ατμόσφαιρα.
- β. της μονοχρωματικότητας του ηλιακού φωτός.
- γ. του διασκεδασμού και της ολικής ανάκλασης του λευκού φωτός.
- δ. των ιδιοτήτων της υπέρυθρης ακτινοβολίας.

Μονάδες 5

Α2. Στους λαμπτήρες πυρακτώσεως το νήμα του βολφραμίου είναι διαμορφωμένο σε πολύ πυκνές σπείρες. Αυτό γίνεται διότι

- α. το νήμα έτσι έχει μικρότερη αντίσταση.
- β. ελαχιστοποιείται η απαγωγή θερμότητας από το εσωτερικό των σπειρών, με αποτέλεσμα το νήμα να διατηρείται θερμότερο και να εκπέμπει περισσότερο φως.
- γ. αποφεύγεται η εξάχνωση του βολφραμίου.
- δ. το νήμα δημιουργεί μαγνητικό πεδίο που είναι απαραίτητο για τη λειτουργία του λαμπτήρα.

Μονάδες 5

Α3. Η υπέρυθρη ακτινοβολία

- α. έχει μικρότερο μήκος κύματος στο κενό από την ορατή.
- β. προκαλεί το μαύρισμα του δέρματός μας, όταν εκτιθέμεθα στον ήλιο.
- γ. δεν προκαλεί το φαινόμενο του φωσφορισμού.

- δ. συμμετέχει στην μετατροπή του οξυγόνου της ατμόσφαιρας σε όζον.

Μονάδες 5

A4. Ποια από τις παρακάτω προτάσεις, που αναφέρονται στην πυρηνική σύντηξη των πυρήνων ${}^1_1\text{H}$ με τον κύκλο πρωτονίου-πρωτονίου, είναι **λάθος**;

- α. Τέσσερις πυρήνες ${}^1_1\text{H}$ συντήκονται και δημιουργούν ένα πυρήνα ${}^4_2\text{He}$
- β. Οι πυρήνες ${}^1_1\text{H}$ πρέπει να έχουν πολύ μεγάλη κινητική ενέργεια, ώστε να πλησιάσουν σε απόσταση που δρουν οι ισχυρές πυρηνικές δυνάμεις.
- γ. Η συνολική αντίδραση είναι ενδόθερμη.
- δ. Οι πυρηνικές αυτές αντιδράσεις πιστεύεται ότι συμβαίνουν στο εσωτερικό του Ηλίου και των άλλων άστρων.

Μονάδες 5

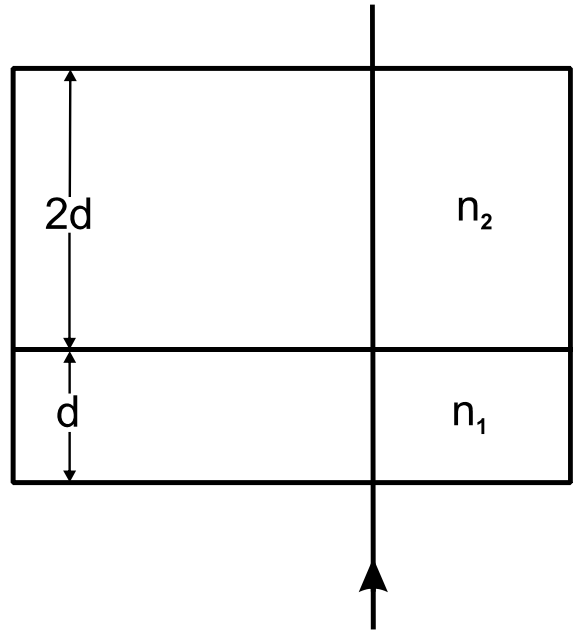
A5. Να χαρακτηρίσετε τις προτάσεις που ακολουθούν, γράφοντας στο τετράδιό σας δίπλα στο γράμμα που αντιστοιχεί σε κάθε πρόταση, τη λέξη **Σωστό**, αν η πρόταση είναι σωστή, ή **Λάθος**, αν η πρόταση είναι λανθασμένη.

- α. Η μονάδα ατομικής μάζας u ορίζεται ως το $\frac{1}{12}$ της μάζας του πυρήνα του ${}^{16}_8\text{O}$
- β. Οι ακτίνες X είναι ταχέως κινούμενα ηλεκτρόνια.
- γ. Η φθορίζουσα ουσία στους λαμπτήρες φθορισμού απορροφά υπεριώδη ακτινοβολία και εκπέμπει ορατή.
- δ. Η θεωρία των κβάντα δεν αναιρεί την κυματική φύση του φωτός.
- ε. Οι ισχυρές πυρηνικές δυνάμεις είναι διαφορετικές, όταν αναπτύσσονται μεταξύ δύο πρωτονίων και διαφορετικές, όταν αναπτύσσονται μεταξύ δύο νετρονίων.

Μονάδες 5

ΘΕΜΑ Β

B1. Μονοχρωματική ακτίνα φως διαπερνά διαδοχικά δύο οπτικά υλικά με δείκτες διάθλασης n_1 και n_2 αντίστοιχα, όπου $n_2 = 1,5 \cdot n_1$. Η ακτίνα προσπίπτει κάθετα στις διαχωριστικές επιφάνειες των δύο οπτικών υλικών, όπως φαίνεται στο σχήμα. Τα δύο οπτικά υλικά έχουν πάχος d και $2d$ αντίστοιχα.



Στο οπτικό υλικό με δείκτη διάθλασης n_1 το πάχος d ισούται με 10^5 μήκη κύματος της ακτινοβολίας στο μέσο αυτό. Με πόσα μήκη κύματος της ακτινοβολίας στο μέσο με δείκτη διάθλασης n_2 ισούται το πάχος $2d$;

- α)** $2 \cdot 10^5$, **β)** $0,75 \cdot 10^5$, **γ)** $3 \cdot 10^5$

Να επιλέξετε τη σωστή απάντηση (μονάδες 2).

Να δικαιολογήσετε την επιλογή σας (μονάδες 6).

Μονάδες 8

B2. Δύο δέσμες ακτίνων X παράγονται από συσκευές στις οποίες η τάση μεταξύ ανόδου-καθόδου είναι V_1 για την πρώτη δέσμη και V_2 για τη δεύτερη. Οι δέσμες προσπίπτουν σε μια πλάκα. Η πρώτη δέσμη απορροφάται πλήρως από την πλάκα, ενώ η δεύτερη την διαπερνά. Ποια από τις παρακάτω συνθήκες ισχύει;

- α)** $V_1 > V_2$, **β)** $V_1 < V_2$, **γ)** $V_1 = V_2$

Να επιλέξετε τη σωστή απάντηση (μονάδες 2).

Να δικαιολογήσετε την επιλογή σας (μονάδες 6).

Μονάδες 8

- B3.** Ένας πυρήνας X με μαζικό αριθμό 250 και ενέργεια σύνδεσης ανά νουκλεόνιο 7,5 MeV, διασπάται σε 2 πυρήνες: 1) τον Y με μαζικό αριθμό 100 και ενέργεια σύνδεσης ανά νουκλεόνιο 8,8 MeV και 2) τον Ω με μαζικό αριθμό 150 και ενέργεια σύνδεσης ανά νουκλεόνιο 8,2 MeV.

Κατά την διαδικασία αυτή

α) εκλύεται ενέργεια.

β) απορροφάται ενέργεια.

γ) ούτε εκλύεται ούτε απορροφάται ενέργεια.

Να επιλέξετε τη σωστή απάντηση (μονάδες 2).

Να δικαιολογήσετε την επιλογή σας (μονάδες 7).

Μονάδες 9

ΘΕΜΑ Γ

Ηλεκτρόνια επιταχύνονται από τάση V και στη συνέχεια προσπίπτουν σε άτομα υδρογόνου, τα οποία βρίσκονται στη θεμελιώδη τους κατάσταση. Κατά την πρόσπτωση αυτή τα άτομα του υδρογόνου διεγείρονται στην 3^η διεγερμένη κατάσταση ($n=4$). Να υπολογισθεί:

- Γ1.** Το μέτρο της στροφορμής του ηλεκτρονίου ενός διεγερμένου ατόμου υδρογόνου το οποίο βρίσκεται στην τροχιά με $n=4$.

Μονάδες 5

- Γ2.** Η ελάχιστη τιμή της τάσης V με την οποία επιταχύνθηκαν τα ηλεκτρόνια που προκάλεσαν τη διέγερση των ατόμων του υδρογόνου.

Μονάδες 6

- Γ3.** Ο λόγος των κινητικών ενεργειών $\frac{K_4}{K_1}$ των ηλεκτρονίων του ατόμου του υδρογόνου, όπου K_1 η κινητική ενέργεια του ατόμου στην τροχιά με $n=1$ και K_4 η κινητική ενέργεια του ατόμου στην τροχιά με $n=4$.

Μονάδες 7

- Γ4.** Η δυναμική ενέργεια του ηλεκτρονίου στην τροχιά με $n=4$.

Μονάδες 7

ΑΡΧΗ 5ΗΣ ΣΕΛΙΔΑΣ

Δίνονται: $E_1 = -13,6 \text{ eV}$, η ενέργεια του ατόμου του υδρογόνου στη θεμελιώδη κατάσταση και $\hbar = \frac{h}{2\pi} = 10^{-34} \text{ J}\cdot\text{s}$

ΘΕΜΑ Δ

Το ${}_{83}^{214}\text{Bi}$ (βισμούθιο) είναι ένα ραδιενεργό ισότοπο. Οι πυρήνες του βισμούθιου μπορούν να διασπασθούν με δύο διαφορετικούς τρόπους, με διάσπαση α ή με διάσπαση β^- . Κατά τις διασπάσεις αυτές ο χρόνος υποδιπλασιασμού του βισμούθιου είναι $T_{1/2} = 20 \text{ min}$. Κατά τη διάσπαση α παράγεται Tl (θάλλιο) και κατά την διάσπαση β^- παράγεται Po (πολώνιο). Η διάσπαση α πραγματοποιείται σε ποσοστό 0,4%, ενώ κατά το υπόλοιπο ποσοστό πραγματοποιείται η διάσπαση β^- .

Τη χρονική στιγμή $t_0 = 0$ διαθέτουμε ένα δείγμα $N_0 = 9,6 \cdot 10^{18}$ πυρήνων ${}_{83}^{214}\text{Bi}$.

Δ1. Να γράψετε τις πυρηνικές αντιδράσεις διάσπασης α και β^- που πραγματοποιούνται.

Μονάδες 6

Δ2. Να υπολογίσετε την ενεργότητα του δείγματος αυτού τη χρονική στιγμή $t_1 = 60 \text{ min}$.

Μονάδες 7

Δ3. Να γίνει η γραφική παράσταση του αριθμού N των πυρήνων ${}_{83}^{214}\text{Bi}$ που παραμένουν αδιάσπαστοι σε συνάρτηση με το χρόνο για χρονικό διάστημα από $t_0 = 0$ έως $t_1 = 60 \text{ min}$. Στη γραφική παράσταση να φαίνονται οι συντεταγμένες 4 σημείων της καμπύλης.

Μονάδες 5

(Η γραφική παράσταση να γίνει με στυλό ή με μολύβι στο μιλιμετρέ χαρτί που βρίσκεται στο τέλος του τετραδίου).

- Δ4. Να υπολογίσετε τον αριθμό των σωματίων α που παράχθηκαν στο χρονικό διάστημα από $t_0=0$ έως $t_2=40$ min.

Μονάδες 7

Δίνεται $\ln 2=0,7$

ΟΔΗΓΙΕΣ ΓΙΑ ΤΟΥΣ ΕΞΕΤΑΖΟΜΕΝΟΥΣ

1. Στο τετράδιο να γράψετε μόνο τα προκαταρκτικά (ημερομηνία, εξεταζόμενο μάθημα). **Να μην αντιγράψετε** τα θέματα στο τετράδιο.
2. Να γράψετε το ονοματεπώνυμό σας στο πάνω μέρος των φωτοαντιγράφων, αμέσως μόλις σας παραδοθούν. **Καμιά άλλη σημείωση δεν επιτρέπεται να γράψετε.** Κατά την αποχώρησή σας να παραδώσετε μαζί με το τετράδιο και τα φωτοαντίγραφα.
3. Να απαντήσετε **στο τετράδιό σας σε όλα** τα θέματα.
4. Να γράψετε τις απαντήσεις σας **μόνο με μπλε ή μαύρο στυλό διαρκείας και μόνον ανεξίτηλης μελάνης.**
5. Κάθε απάντηση επιστημονικά τεκμηριωμένη είναι αποδεκτή.
6. Διάρκεια εξέτασης: τρεις (3) ώρες μετά τη διανομή των φωτοαντιγράφων.
7. Χρόνος δυνατής αποχώρησης: 10.00 π.μ.

ΚΑΛΗ ΕΠΙΤΥΧΙΑ

ΤΕΛΟΣ ΜΗΝΥΜΑΤΟΣ

ΑΡΧΗ 1ΗΣ ΣΕΛΙΔΑΣ - Γ΄ ΗΜΕΡΗΣΙΩΝ

ΠΑΝΕΛΛΗΝΙΕΣ ΕΞΕΤΑΣΕΙΣ Γ΄ ΤΑΞΗΣ

ΗΜΕΡΗΣΙΟΥ ΓΕΝΙΚΟΥ ΛΥΚΕΙΟΥ

ΣΑΒΒΑΤΟ 14 ΜΑΪΟΥ 2011

ΕΞΕΤΑΖΟΜΕΝΟ ΜΑΘΗΜΑ: ΦΥΣΙΚΗ ΓΕΝΙΚΗΣ ΠΑΙΔΕΙΑΣ

ΣΥΝΟΛΟ ΣΕΛΙΔΩΝ: ΕΞΙ (6)

ΘΕΜΑ Α

Στις ερωτήσεις Α1-Α4 να γράψετε στο τετράδιό σας τον αριθμό της ερώτησης και, δίπλα το γράμμα που αντιστοιχεί στη φράση η οποία συμπληρώνει σωστά την ημιτελή πρόταση.

Α1. Η σωματιδιακή φύση του φωτός εκδηλώνεται στο

- α. φαινόμενο της συμβολής.
- β. φαινόμενο της περίθλασης.
- γ. φωτοηλεκτρικό φαινόμενο.
- δ. φαινόμενο της πόλωσης.

Μονάδες 5

Α2. Άτομο υδρογόνου βρίσκεται στη θεμελιώδη κατάσταση με ενέργεια E_1 . Η ελάχιστη ενέργεια που απαιτείται για τον ιονισμό του είναι

- α. 0
- β. E_1
- γ. $-E_1$
- δ. $-\frac{E_1}{2}$

Μονάδες 5

Α3. Για τους πυρήνες X, Y, Z και Ω οι ενέργειες σύνδεσης ανά νουκλεόνιο φαίνονται στον παρακάτω πίνακα

ΠΥΡΗΝΑΣ	ΕΝΕΡΓΕΙΑ ΣΥΝΔΕΣΗΣ ΑΝΑ ΝΟΥΚΛΕΟΝΙΟ (MeV/νουκλεόνιο)
X	8,2
Y	7,6
Z	8,6
Ω	7,7

ΑΡΧΗ 2ΗΣ ΣΕΛΙΔΑΣ - Γ΄ ΗΜΕΡΗΣΙΩΝ

Ο πιο ασταθής πυρήνας είναι ο

- α. X.
- β. Y.
- γ. Z.
- δ. Ω.

Μονάδες 5

A4. Σε μια πυρηνική αντίδραση της μορφής $A+B \rightarrow \Gamma+\Delta$ η ενέργεια Q της αντίδρασης είναι

- α. $Q=(M_{\Gamma}+M_{\Delta}-M_A-M_B)c^2$.
- β. $Q=(M_A+M_B-M_{\Gamma}-M_{\Delta})c$.
- γ. $Q=(M_A+M_B+M_{\Gamma}+M_{\Delta})c^2$.
- δ. $Q=(M_A+M_B-M_{\Gamma}-M_{\Delta})c^2$.

Τα M_A , M_B , M_{Γ} και M_{Δ} είναι οι μάζες των πυρήνων A, B, Γ, Δ αντίστοιχα και c η ταχύτητα του φωτός στο κενό.

Μονάδες 5

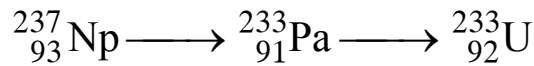
A5. Να χαρακτηρίσετε τις προτάσεις που ακολουθούν, γράφοντας στο τετράδιό σας, δίπλα στο γράμμα που αντιστοιχεί σε κάθε πρόταση, τη λέξη **Σωστό**, αν η πρόταση είναι σωστή, ή **Λάθος**, αν η πρόταση είναι λανθασμένη.

- α. Σύμφωνα με το πρότυπο του Thomson, η σύγκρουση σωματίων α με τα ηλεκτρόνια επηρεάζει σημαντικά την κίνησή τους.
- β. Σύμφωνα με το πρότυπο του Rutherford, στο άτομο υπάρχει μια πολύ μικρή περιοχή που είναι συγκεντρωμένο όλο το θετικό φορτίο.
- γ. Κατά την εκπομπή ακτινοβολίας γ από πυρήνα, δεν αλλάζει το Z, αλλάζει όμως το A του πυρήνα.
- δ. Η ακτινοβολία β ονομάζεται «ιονίζουσα», διότι αποτελείται από ιόντα.
- ε. Το ραδιενεργό ιώδιο χρησιμοποιείται για τη μελέτη της λειτουργίας του θυρεοειδούς αδένος.

Μονάδες 5

ΘΕΜΑ Β

B1. Οι πυρήνες ενός δείγματος ποσειδωνίου (Np) διασπώνται αρχικά σε πυρήνες πρωτακτινίου (Pa), οι οποίοι στη συνέχεια διασπώνται σε πυρήνες ουρανίου (U), όπως φαίνεται σχηματικά παρακάτω



Από τις αντιδράσεις αυτές εκπέμπονται

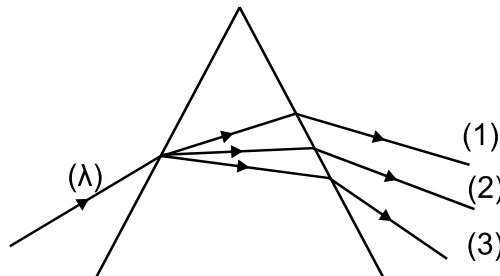
- α. μόνο σωματία α.
- β. μόνο σωματίδια β.
- γ. σωματία α και σωματίδια β.

Να επιλέξετε τη σωστή απάντηση (μονάδες 2).

Να δικαιολογήσετε την επιλογή σας (μονάδες 6).

Μονάδες 8

B2. Μία ακτίνα λευκού φωτός (λ) προσπίπτει από τον αέρα σε γυάλινο πρίσμα και αναλύεται. Στο σχήμα φαίνεται η πορεία της ιώδους, της κίτρινης και της κόκκινης ακτίνας.



Η ιώδης ακτίνα είναι

- α) η (1). β) η (2). γ) η (3).

Να επιλέξετε τη σωστή απάντηση (μονάδες 2).

Να δικαιολογήσετε την επιλογή σας (μονάδες 6).

Μονάδες 8

B3. Σε μια συσκευή παραγωγής ακτίνων X το ελάχιστο μήκος κύματος των ακτίνων X που παράγονται είναι λ_{\min} . Ένα ηλεκτρόνιο, κατά την πρόσκρουσή του στην άνοδο, χάνει το 25% της κινητικής του

ΑΡΧΗ 4ΗΣ ΣΕΛΙΔΑΣ - Γ΄ ΗΜΕΡΗΣΙΩΝ

ενέργειας, η οποία μετατρέπεται σε ενέργεια φωτονίου μήκους κύματος λ . Ποια από τις παρακάτω σχέσεις είναι σωστή;

α) $\lambda = \frac{\lambda_{\min}}{4}$. β) $\lambda = 4\lambda_{\min}$. γ) $\lambda = \lambda_{\min}$.

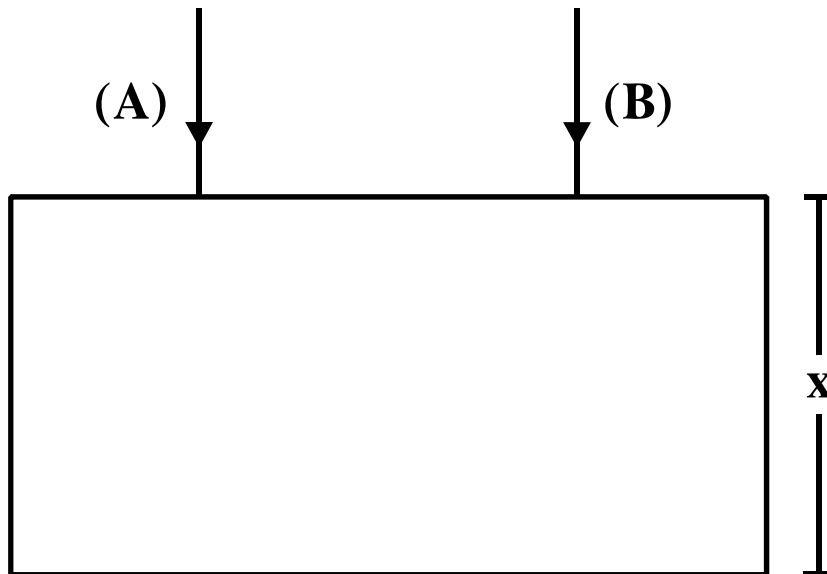
Να επιλέξετε τη σωστή απάντηση (μονάδες 2).

Να δικαιολογήσετε την επιλογή σας (μονάδες 7).

Μονάδες 9

ΘΕΜΑ Γ

Δύο μονοχρωματικές ακτινοβολίες (Α) και (Β), που διαδίδονται στο κενό με μήκη κύματος λ_{0A} και λ_{0B} αντίστοιχα, εισέρχονται ταυτόχρονα σε οπτικό υλικό πάχους $x=60$ cm, κάθετα στη διαχωριστική επιφάνεια του υλικού με το κενό, όπως φαίνεται στο σχήμα.



Κατά την είσοδο της ακτινοβολίας (Α) στο οπτικό υλικό, η ταχύτητά της μειώνεται κατά 10^8 m/s. Ο δείκτης διάθλασης του οπτικού υλικού για την ακτινοβολία (Β) είναι $n_B=2$.

Γ1. Να βρεθεί η ταχύτητα c_B της ακτινοβολίας (Β) μέσα στο οπτικό υλικό.

Μονάδες 5

Γ2. Να βρεθεί ο δείκτης διάθλασης n_A του οπτικού υλικού για την ακτινοβολία (Α).

Μονάδες 6

ΑΡΧΗ 5ΗΣ ΣΕΛΙΔΑΣ - Γ΄ ΗΜΕΡΗΣΙΩΝ

Γ3. Αν είναι γνωστό ότι $\frac{\lambda_{0A}}{\lambda_{0B}} = \frac{3}{2}$, να βρεθεί ο λόγος των μηκών κύματος $\frac{\lambda_A}{\lambda_B}$ των ακτινοβολιών μέσα στο οπτικό υλικό.

Μονάδες 7

Γ4. Να βρεθεί η χρονική διαφορά εξόδου των δύο ακτινοβολιών από το οπτικό υλικό.

Μονάδες 7

Δίνεται η ταχύτητα του φωτός στο κενό $c_0 = 3 \cdot 10^8$ m/s.

ΘΕΜΑ Δ

Ηλεκτρόνιο επιταχύνεται από την ηρεμία μέσω τάσης V και αποκτά κινητική ενέργεια K . Στη συνέχεια, το ηλεκτρόνιο συγκρούεται με ένα άτομο υδρογόνου το οποίο βρίσκεται στη θεμελιώδη κατάσταση. Μετά την κρούση, το ηλεκτρόνιο έχει κινητική ενέργεια $K_{\text{τελ}} = \frac{K}{2}$, ενώ το άτομο του υδρογόνου διεγείρεται. Η κινητική ενέργεια του ατόμου του υδρογόνου δεν μεταβάλλεται κατά την κρούση. Στη διεγερμένη κατάσταση, το ηλεκτρόνιο του ατόμου του υδρογόνου έχει κατά μέτρο τριπλάσια στροφορμή από αυτή που έχει στη θεμελιώδη κατάσταση. Σε ελάχιστο χρονικό διάστημα, το άτομο του υδρογόνου επανέρχεται στη θεμελιώδη κατάσταση, εκπέμποντας δύο φωτόνια με μήκη κύματος λ_α και λ_β αντίστοιχα, με $\lambda_\alpha < \lambda_\beta$.

Δ1. Να βρείτε σε ποια ενεργειακή στάθμη διεγείρεται το άτομο του υδρογόνου.

Μονάδες 4

Δ2. Να υπολογίσετε τον λόγο $\frac{\lambda_\alpha}{\lambda_\beta}$.

Μονάδες 5

Δ3. Να αποδείξετε ότι $K_{\text{τελ}} = -\frac{8}{9}E_1$, όπου E_1 η ενέργεια του ατόμου του υδρογόνου στη θεμελιώδη κατάσταση.

Μονάδες 5

ΑΡΧΗ 6ΗΣ ΣΕΛΙΔΑΣ - Γ΄ ΗΜΕΡΗΣΙΩΝ

Δ4. Να υπολογίσετε την τάση V με την οποία επιταχύνθηκε το ηλεκτρόνιο.

Μονάδες 5

Δ5. Να υπολογίσετε τον λόγο $\frac{v_{\text{τελ}}}{v_n}$ όπου $v_{\text{τελ}}$ το μέτρο της ταχύτητας του ηλεκτρονίου που συγκρούστηκε με το άτομο του υδρογόνου μετά τη κρούση και v_n το μέτρο της ταχύτητας του ηλεκτρονίου του ατόμου του υδρογόνου στην αρχική διεγερμένη κατάσταση.

Μονάδες 6

Δίνεται $E_1 = -13,6 \text{ eV}$.

ΟΔΗΓΙΕΣ (για τους εξεταζομένους)

1. Στο τετράδιο να γράψετε μόνο τα προκαταρκτικά (ημερομηνία, εξεταζόμενο μάθημα). Να μην αντιγράψετε τα θέματα στο τετράδιο.
2. Να γράψετε το ονοματεπώνυμό σας στο πάνω μέρος των φωτοαντιγράφων αμέσως μόλις σας παραδοθούν. Δεν επιτρέπεται να γράψετε καμιά άλλη σημείωση. Κατά την αποχώρησή σας να παραδώσετε μαζί με το τετράδιο και τα φωτοαντίγραφα.
3. Να απαντήσετε στο τετράδιό σας σε όλα τα θέματα.
4. Να γράψετε τις απαντήσεις σας μόνο με μπλε ή μόνο με μαύρο στυλό. Μπορείτε να χρησιμοποιήσετε μολύβι μόνο για σχέδια, διαγράμματα και πίνακες.
5. Να μη χρησιμοποιήσετε χαρτί μιλιμετρέ.
6. Κάθε απάντηση τεκμηριωμένη είναι αποδεκτή.
7. Διάρκεια εξέτασης: τρεις (3) ώρες μετά τη διανομή των φωτοαντιγράφων.
8. Χρόνος δυνατής αποχώρησης: 10.30 π.μ.

**ΚΑΛΗ ΕΠΙΤΥΧΙΑ
ΤΕΛΟΣ ΜΗΝΥΜΑΤΟΣ**